


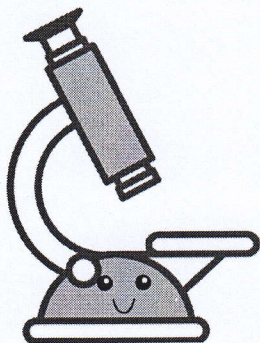
مجتمع آموزشی ، فرهنگی دکتر حسابی

مقطع ابتدایی



ارزشیابی شماره ۲

کلاس ششم



۱۳۹۷ / ۱۲ / ۱۵

قرآن و هدیه ها (سؤالات ۱ تا ۵)

فارسی (سؤالات ۶ تا ۱۷)

مطالعات اجتماعی (سؤالات ۱۸ تا ۲۴)

علوم (سؤالات ۲۵ تا ۳۵)

ریاضی (سؤالات ۳۶ تا ۵۰)

کد :

نام و نام خانوادگی :

نام و نام خانوادگی:

ششم اینار ۱ □ ۲ □

مجتمع آموزشی، فرهنگی دکتر حسابی - مقطع ابتدایی

ارزشیابی شماره ۲

سال تحصیلی - ۹۸ - ۱۳۹۷

کد:

تاریخ: ۱۳۹۷ / ۱۲ / ۱۵

قرآن و هدیه های آسمان

(۱) سخن پیامبر (ص) با کدام گزینه کامل می شود؟

پیامبر اعظم (ص): دانش اگر در باشد. مردانی از سرزمین بر آن دست خواهند یافت.

- (۱) اقیانوس ها - کهن □
(۲) آسمان ها - عرب □
(۳) ثریا - پارس □
(۴) بیابان ها - جنوب □

(۲) مفهوم « و سَبَّحْ بِحَمْدِ رَبِّكَ قَبْلَ طُلُوعِ الشَّمْسِ » چیست؟

(۱) به عظمت خدا پی ببریم □ (۲) نماز را به وقت بخوانیم □ (۳) خدا را ستایش کنیم و ذکر او را بگوئیم □ (۴) حتماً نماز بخوانیم □

(۳) کدام یک از موارد زیر سبب بسیاری از گناهان مردم می شود؟

- (۱) سخن چینی □ (۲) تهمت زدن □ (۳) بدگمانی □ (۴) از یاد بردن قیامت □

(۴) کدام یک از موارد زیر تَوَلَّى است؟

(۱) مبارزه با استکبار □ (۲) ساکت نماندن در برابر ظالمان □ (۳) دشمنی با دشمنان خدا □ (۴) حمایت از مردم ستمدیده ی یمن □

(۵) کدام یک از موارد زیر جزء آداب معاشرت محسوب نمی شود؟

(۱) درگوشی صحبت کردن □ (۲) با مردم به نیکی صحبت کردن □ (۳) احترام به بزرگترها □ (۴) قطع نکردن صحبت دیگران □

فارسی

(۶) کلمه های کدام گزینه را نمی توان با دو معنی مختلف در جملات به کار برد.

(۱) کودکی - بازی □ (۲) ورزشی - مردی □ (۳) نگاهی - سخنی □ (۴) بیماری - کاری □

(۷) کلمه های کدام گزینه بدون تغییر با « ان » جمع بسته می شوند؟

(۱) ایرانی، کودک، همراه □ (۲) فرشته، گذشته، پرنده □ (۳) بیگانه، خسته، بیچاره □ (۴) ستاره، زنده، وابسته □

(۸) کدام یک از این واژه ها هنگامی که بین دو جمله بیاید سبب و دلیل را بازگو می کند؟

(۱) اما □ (۲) بنابراین □ (۳) هم □ (۴) نیز □

(۹) این بیت از کیست؟

ای نام تو روییده به گلدان لبم در مرحمت تو غوطه ور، روز و شبم

(۱) باباطاهر □ (۲) سید حسن حسینی □ (۳) مصطفی علی پور □ (۴) ایرج میرزا □

(۱۰) در کدام گزینه منادا دیده نمی شود؟

(۱) ای سلام، ای سرودم، ای نگهبان وجودم □ (۲) مادر، سلامت باشی و شادمان □ (۳) قفس، شرمگین از شکوفایی شوق پروازت بود □ (۴) دلا، دیدی آن عاشقان را □

(۱۱) همه ی کلمات کدام گزینه جمع نیستند؟

(۱) فصول، متون، کلمات □ (۲) کتب، فضلا، اشخاص □ (۳) معلومات، شهدا، بیگانگان □ (۴) خروشان، محاصره، اشغال □

(۱۲) همه ی واژه های کدام گزینه با افزودن « نامه » کلمه ی معنادار نمی سازند؟

(۱) دعوت، کار، کتاب □ (۲) روز، زیارت، خبر □ (۳) هفته، سال، ماه □ (۴) یادداشت، خاطره، لغت □

(۱۳) در عبارت زیر چند غلط املایی وجود دارد؟

در جلوی هر کلمه ای معنا، طرزه تلفظ صحیح همراه با اشعار و اطلاعات دیگر آمده است.

دهخدا شب ها از بستر بر می خواست و برای تکمیل دایره لمعارف خود می کوشید.

(۱) ۳ □ (۲) ۲ □ (۳) ۱ □ (۴) ۴ □

| | |
|---|---|
| <p>۱۴) نشانه‌ی تعجب (!) در کدام مورد کاربرد ندارد؟</p> | |
| <p>۱) پایان جملات تعجبی <input type="checkbox"/></p> <p>۲) هنگام بیان حالات عاطفی <input type="checkbox"/></p> <p>۳) پس از جملات ندایی <input type="checkbox"/></p> <p>۴) برای نشان دادن شک و تردید <input type="checkbox"/></p> | |
| <p>۱۵) معنای کلمات (حب الوطن، ملک، معاصر) کدام است؟</p> | |
| <p>۱) میهن دوستی، پادشاه، هم دوره <input type="checkbox"/></p> <p>۲) دوست داشتن، ثروت، هم دوره <input type="checkbox"/></p> <p>۳) میهن دوستی، دارایی، هم زمان <input type="checkbox"/></p> <p>۴) میهن دوستی، ثروت، هم زمان <input type="checkbox"/></p> | |
| <p>۱۶) امام محمد غزالی مردم را به چند گروه تقسیم کرده است؟</p> | |
| <p>۱) آب، غذا، دارو <input type="checkbox"/></p> <p>۲) غذا، دارو، بیماری <input type="checkbox"/></p> <p>۳) غذا، دارو، خواب <input type="checkbox"/></p> <p>۴) آب، بیماری، غذا <input type="checkbox"/></p> | |
| <p>۱۷) در کدام گزینه معنای کلمه‌ی مشخص شده نادرست نوشته شده است؟</p> | |
| <p>۱) اشرف و انجب تمام ملل</p> <p>۲) دریاقلی! راکب بزن یا علی بگو</p> <p>۳) درد عشقی کشیده ام که مپرس</p> <p>۴) دریا قلی به وسعت دریاست نام تو</p> | <p>یادگار قدیم دورانیم (ثروتمند) <input type="checkbox"/></p> <p>چشم انتظار همت تو دین و میهن است (عزم قوی) <input type="checkbox"/></p> <p>زهر هجری چشیده ام که مپرس (جدایی) <input type="checkbox"/></p> <p>تاریخ در تلفظ نام تو <u>الکن</u> است. (کسی که هنگام صحبت زبانش گیر می کند) <input type="checkbox"/></p> |
| <p>مطالعات اجتماعی</p> | |
| <p>۱۸) کدام تصمیم درست است؟</p> | |
| <p>۱) تصمیم را امروز و فردا کنیم <input type="checkbox"/></p> <p>۲) با عجله تصمیم بگیریم <input type="checkbox"/></p> <p>۳) در تصمیم گیری با افراد مطمئن مشورت کنیم <input type="checkbox"/></p> <p>۴) تصمیم بگیریم و عمل نکنیم <input type="checkbox"/></p> | |
| <p>۱۹) بیشترین صنایع نفتی ایران در و کشور وجود دارد.</p> | |
| <p>۱) جنوب شرقی - شرق <input type="checkbox"/></p> <p>۲) شمال غربی - غرب <input type="checkbox"/></p> <p>۳) شمال شرقی - شرق <input type="checkbox"/></p> <p>۴) جنوب غربی - غرب <input type="checkbox"/></p> | |
| <p>۲۰) در چه زمانی نباید از لوازم برقی پر مصرف استفاده کنیم؟</p> | |
| <p>۱) ۸ صبح تا ۱۲ ظهر <input type="checkbox"/></p> <p>۲) ۱۲ ظهر تا ۶ بعدازظهر <input type="checkbox"/></p> <p>۳) در ساعات شروع کار ادارات <input type="checkbox"/></p> <p>۴) بین ۷ تا ۱۱ شب <input type="checkbox"/></p> | |
| <p>۲۱) معروفترین بیمارستان دوره اسلامی توسط چه کسی و در کجا بنا شد؟</p> | |
| <p>۱) خواجه نظام الملک در بغداد <input type="checkbox"/></p> <p>۲) خواجه نصیر الدین در مراغه <input type="checkbox"/></p> <p>۳) عضدالدوله دیلمی در بغداد <input type="checkbox"/></p> <p>۴) عضدالدوله دیلمی در جندی شاپور <input type="checkbox"/></p> | |
| <p>۲۲) پوشاک مردم ایران در نواحی مختلف آب هوایی از چه نظر با هم فرق دارد؟</p> | |
| <p>۱) شکل، دوخت و رنگ <input type="checkbox"/></p> <p>۲) شکل، جنس و رنگ <input type="checkbox"/></p> <p>۳) شکل و رنگ و اندازه <input type="checkbox"/></p> <p>۴) اندازه، جنس و دوخت <input type="checkbox"/></p> | |
| <p>۲۳) با توجه به خط زمان، دانشمندی که در ۵۶۳ - ۴۲۸ هجری زندگی می کرده است یعنی</p> | |
| <p>۱) در نیمه‌ی اول قرن پنجم و نیمه‌ی دوم قرن ششم <input type="checkbox"/></p> <p>۲) در نیمه‌ی اول قرن پنجم و نیمه‌ی دوم قرن پنجم <input type="checkbox"/></p> <p>۳) در نیمه‌ی اول قرن چهارم و نیمه‌ی دوم قرن پنجم <input type="checkbox"/></p> <p>۴) در نیمه‌ی اول قرن چهارم و نیمه‌ی دوم قرن چهارم <input type="checkbox"/></p> | |
| <p>۲۴) هم زمان با ساخت کدام یک از بناهای زیر کشف معادن سنگ مرمر در اطراف اصفهان سبب استفاده از این سنگ ها در ساخت این بنا شد؟</p> | |
| <p>۱) مسجد امام (مسجد جامع عباسی) <input type="checkbox"/></p> <p>۲) کاخ عالی قاپو <input type="checkbox"/></p> <p>۳) مسجد شیخ لطف الله <input type="checkbox"/></p> <p>۴) بازار صفویه <input type="checkbox"/></p> | |
| <p>علوم</p> | |
| <p>۲۵) کدام یک از کارهای زیر مربوط به اقدامات هنگام وقوع زمین لرزه است؟</p> | |
| <p>۱) مقاوم سازی ساختمان ها <input type="checkbox"/></p> <p>۲) برگزاری مانور زمین لرزه <input type="checkbox"/></p> <p>۳) پناه گیری مناسب <input type="checkbox"/></p> <p>۴) کمک به مصدومین <input type="checkbox"/></p> | |
| <p>۲۶) طراحی بال های هواپیما به گونه ای است که در هنگام حرکت</p> | |
| <p>۱) فشار هوای بالای بال بیش از پایین بال است <input type="checkbox"/></p> <p>۲) سرعت عبور هوا در دو طرف بال مساوی است <input type="checkbox"/></p> <p>۳) سرعت هوای پایین بال بیش از بالای بال است <input type="checkbox"/></p> <p>۴) سرعت عبور هوای بالای بال بیش تر از پایین بال است <input type="checkbox"/></p> | |
| <p>۲۷) در کدام گزینه تبدیل انرژی درست نمی باشد؟</p> | |
| <p>۱) مارماهی: شیمیایی به الکتریکی <input type="checkbox"/></p> <p>۲) لامپ روشن: الکتریکی به نوری و گرمایی <input type="checkbox"/></p> <p>۳) رها کرده زه کمان: ذخیره ای به حرکتی <input type="checkbox"/></p> <p>۴) استفاده از باتری: الکتریکی به حرکتی <input type="checkbox"/></p> | |

| |
|--|
| <p>۲۸) کدام عبارت درست است ؟</p> <p>۱) نیرو باعث حرکت اجسام می شود ولی باعث توقف آن ها نمی شود <input type="checkbox"/></p> <p>۲) هیچ نیرویی به کتاب هایی که در قفسه ی کتابخانه وجود دارد وارد نمی شود <input type="checkbox"/></p> <p>۳) نیرو اثر متقابل دو جسم است <input type="checkbox"/></p> <p>۴) نیرو همواره به صورت هل دادن عمل می کند <input type="checkbox"/></p> |
| <p>۲۹) از سه لایه ی اصلی زمین داخلی ترین لایه ی زمین نام دارد و ضخامت تقریبی آن کیلومتر است .</p> <p>۱) هسته - ۶۴۰۰ <input type="checkbox"/> ۲) پوسته - ۱۰۰ <input type="checkbox"/> ۳) هسته - ۲۸۸۵ <input type="checkbox"/> ۴) هسته - ۳۵۰۰ <input type="checkbox"/></p> |
| <p>۳۰) زمانی که شیر آب کم باز است و یک شانه ی پلاستیکی را به آب نزدیک می کنیم نیروی شانه مسیر حرکت آب را تغییر می دهد . این نیرو جزء کدام دسته از نیروهاست ؟</p> <p>۱) مغناطیسی - غیر تماسی <input type="checkbox"/> ۲) الکتریکی - غیر تماسی <input type="checkbox"/> ۳) اصطکاک - تماسی <input type="checkbox"/> ۴) گرانشی - غیر تماسی <input type="checkbox"/></p> |
| <p>۳۱) کدام مورد از فواید آتش فشان نیست ؟</p> <p>۱) زمین های حاصل خیز <input type="checkbox"/> ۲) تشکیل دریاچه <input type="checkbox"/> ۳) چشمه های آبگرم <input type="checkbox"/> ۴) اکتشاف نفت و گاز <input type="checkbox"/></p> |
| <p>۳۲) اگر سرعت امواج لرزه ای در سنگ گرانیته زیاد و در پوکه ی معدنی کم باشد با توجه به آن کدام گزینه درست است ؟</p> <p>۱) تراکم پوکه بیشتر از گرانیته است <input type="checkbox"/> ۲) تراکم گرانیته بیشتر از پوکه ی معدنی است <input type="checkbox"/></p> <p>۳) گرانیته سوراخ و پر از حفره است <input type="checkbox"/> ۴) پوکه ی معدنی تراکم بیشتر و سنگین تر است <input type="checkbox"/></p> |
| <p>۳۳) وقتی اتومبیلی بر اثر ترمز کاملاً می ایستد اثر نیرو به چه صورتی روی اتومبیل خودش را نشان می دهد ؟</p> <p>۱) توقف جسم <input type="checkbox"/> ۲) تغییر شکل <input type="checkbox"/> ۳) تغییر جهت حرکت <input type="checkbox"/> ۴) کند شدن حرکت جسم <input type="checkbox"/></p> |
| <p>۳۴) اگر انرژی مقداری ماده ی غذایی ۲ کیلوکالری باشد . این مقدار انرژی برابر با چند ژول می باشد ؟</p> <p>۱) ۴۰۰۰ ژول <input type="checkbox"/> ۲) ۸۰۰ ژول <input type="checkbox"/> ۳) ۲۰۰۰ ژول <input type="checkbox"/> ۴) ۸۰۰۰ ژول <input type="checkbox"/></p> |
| <p>۳۵) در متن زیر چند عبارت نادرست وجود دارد ؟</p> <p>در زلزله ی کرمانشاه اگر کانون زلزله در عمق بیشتری بود خرابی کمتر می شد در این شهر ساختمان هایی که از مصالح سبک تر ساخته شده بودند مرگ و میر بیشتری داشتند . افرادی که در طبقات بالاتر بودند زلزله را بیشتر حس کردند و زمان وقوع زلزله در میزان تخریب ساختمان مؤثر بود</p> <p>۱) ۴ <input type="checkbox"/> ۲) ۲ <input type="checkbox"/> ۳) ۳ <input type="checkbox"/> ۴) ۱ <input type="checkbox"/></p> |
| <p style="text-align: center;">ریاضی</p> <p>۳۶) کشاورزی ثلث زمین خود را گندم و در $\frac{1}{4}$ باقی مانده جو کاشت در چه کسری از زمین خود چیزی نکاشته است ؟</p> <p>۱) $\frac{1}{3}$ <input type="checkbox"/> ۲) $\frac{1}{2}$ <input type="checkbox"/> ۳) $\frac{3}{8}$ <input type="checkbox"/> ۴) $\frac{3}{4}$ <input type="checkbox"/></p> |
| <p>۳۷) حاصل عبارت $\frac{5-2}{7} \times \frac{2}{5} \times \frac{1}{17}$ کدام است ؟</p> <p>۱) $\frac{18}{49}$ <input type="checkbox"/> ۲) ۱۸ <input type="checkbox"/> ۳) ۷ <input type="checkbox"/> ۴) $2\frac{4}{7}$ <input type="checkbox"/></p> |
| <p>۳۸) کسر $\frac{7}{25}$ برابر با کدام گزینه است ؟</p> <p>۱) $7/25$ <input type="checkbox"/> ۲) $25/7$ <input type="checkbox"/> ۳) 0.28 <input type="checkbox"/> ۴) 0.28 <input type="checkbox"/></p> |
| <p>۳۹) باقی مانده ی تقسیم $12/73$ بر $3/5$ کدام است ؟</p> <p>۱) $1/3$ <input type="checkbox"/> ۲) 0.13 <input type="checkbox"/> ۳) ۱۳ <input type="checkbox"/> ۴) 0.13 <input type="checkbox"/></p> |
| <p>۴۰) در الگوی اعداد فرد طبیعی بیست و هشتمین عدد کدام است ؟</p> <p>۱) ۵۹ <input type="checkbox"/> ۲) ۵۵ <input type="checkbox"/> ۳) ۲۷ <input type="checkbox"/> ۴) ۲۹ <input type="checkbox"/></p> |

۴۱) کدام عدد به ۱۰ نزدیکتر است؟

۹/۹۰ (۴)

۱۰/۲۰ (۳)

۰/۱۰ (۲)

۹/۹۹ (۱)

۴۲) مساحت مثلثی به مختصات $\begin{pmatrix} 1 \\ 2 \end{pmatrix}$ ، $\begin{pmatrix} 4 \\ 2 \end{pmatrix}$ ، $\begin{pmatrix} 5 \\ 4 \end{pmatrix}$ کدام گزینه است؟

۴ (۴)

۳ (۳)

۵ (۲)

۶ (۱)

۴۳) کدام یک از شکل های زیر تقارن چرخشی ندارد؟

مثلث متساوی الساقین (۴)

مربع (۳)

مثلث متساوی الاضلاع (۲)

شش ضلعی منتظم (۱)

۴۴) پاسخ کدام عبارت بزرگ تر است؟

$0.1 \times 0.1 \times 100$ (۴)

$10 \times 0.001 \times 100$ (۳)

$(10000 \times 0.001) \div 100$ (۲)

$0.1 \times 0.1 \times 10000$ (۱)

۴۵) اگر ضخامت یک دسته اسکناس ۱۰۰ تایی ۶/۴ میلی متر باشد. ضخامت یک اسکناس چند میلی متر است؟

۰.۰۰۶۴ (۴)

۶۴ (۳)

۰/۶۴ (۲)

۰/۰۶۴ (۱)

۴۶) به جای \square چه رقمی قرار دهیم تا عدد حاصل بر ۵، ۹ و ۱۰ بخش پذیر باشد. (به ترتیب از چپ به راست)

۳۴ \square ۷ \square

۰ و ۸ (۴)

۴ و ۰ (۳)

۸ و ۴ (۲)

۰ و ۴ (۱)

۴۷) کدام نقطه روی محور طول ها قرار دارد؟



$\begin{pmatrix} 7 \\ 0 \end{pmatrix}$ (د)

$\begin{pmatrix} 0 \\ 4 \end{pmatrix}$ (ج)

$\begin{pmatrix} 0 \\ 0 \end{pmatrix}$ (ب)

$\begin{pmatrix} 1 \\ 2 \end{pmatrix}$ (الف)

۴۸) جدول تناسب روبه رو با کدام گزینه کامل می شود؟

| | | |
|------------|---|---|
| مترمربع | ۱ |  |
| س متر مربع |  | ۴۵۳ |

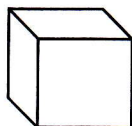
$45/3 - 1000$ (۲)

$0/453 - 10000$ (۱)

$0/453 - 1000$ (۴)

$0/453 - 100$ (۳)

۴۹) مساحت گسترده ی شکل روبه رو کدام گزینه است؟



س ۳

۲۷ سانتی متر مربع (۲)

۵۴ سانتی متر (۱)

۵۴ سانتی متر مربع (۴)

۱۸ سانتی متر مربع (۳)

۵۰) علی مسیر ۴۸۰ متری را با ۱۲۰۰ قدم طی می کند. طول قدم های او چقدر است؟

۴۰ دسی متر (۴)

۲/۵ دسی متر (۳)

۴ دسی متر (۲)

۰/۰۰۴ متر (۱)