

نام و نام خانوادگی:

مجتمع آموزشی، فرهنگی دکتر حسابی - مقطع ابتدایی

کد:

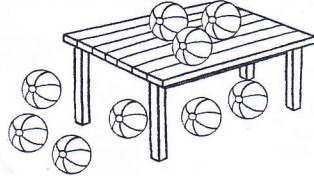
ارزشیابی ریاضیات شماره ۱

تاریخ: ۱۳۹۷/۹/۱۰

سال تحصیلی - ۹۸ - ۱۳۹۷

اول اندیشه ۱ ۲

۱) توپ های کنار میز را رنگ بزن.




۲) اگر به انگشت های باز هر دست ۲ تا اضافه کنیم. چندتا می شود؟ با چوب خط نشان بده.



۳) الگوی زیر را ۲ بار ادامه بده.




۴) گوشه های هر شکل را با رنگ قرمز مشخص کن و به تعداد آن ها چوب خط بکش.




۵) در سمت چپ ماه دو تا گردی بکش.



۶) در هر قسمت به تعداد انگشتان باز دست، از شکل ها رنگ بزن.




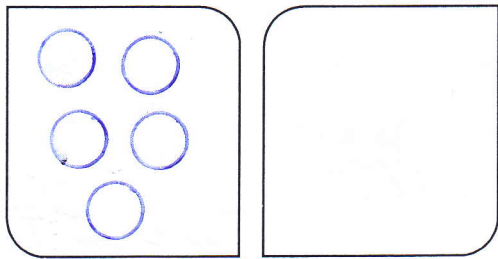
۷) با کشیدن چوب خط حساب کن شکل های سمت چپ و راست باهم چند تا هستند؟





رهنمود معلم:




۸) از شکل های سمت چپ ۲ تا کم کن و در سمت راست شکل بکش .



۱۰) شکل خارج خط بسته را رنگ بزن .






۹) پروانه ی کوچکتر را رنگ بزن .




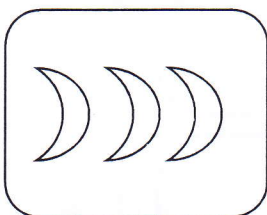
۱۱) به تعداد خورشیدها از شکل های سمت راست رنگ بزن .



۱۲) انگشتان یک دست خود را باز کن و به تعداد شکل ها از انگشتان خود ببند . به تعداد انگشت های باقی مانده چوب خط بکش .



۱۴) کدام دسته به تعداد گوش های انسان است ؟ رنگ بزن .



۱۳) مربع شگفت انگیز را کامل کن .

