

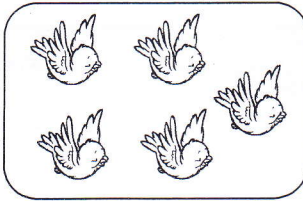


کد:

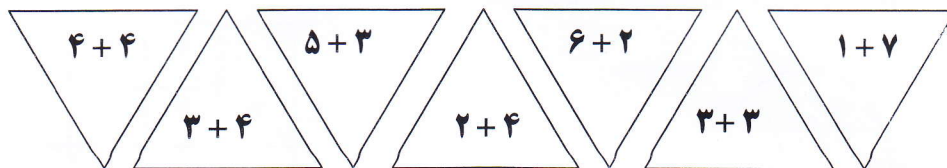
تاریخ: / / ۱۳۹

۱) هر دو شکل رو هم چند تا می شوند؟ با چوب خط نشان بده و برای آن یک جمع بنویس.

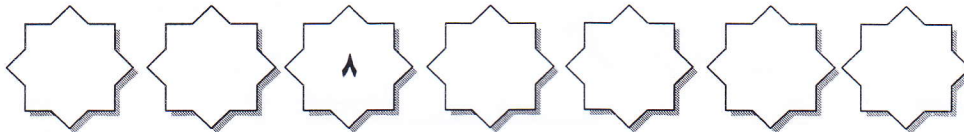


..... + ..... = .....

۲) جمع های عدد ۸ را رنگ بزن.



۳) عددهای قبل و بعد عدد نوشته شده را بنویس.



۴) بین هر دو عدد علامت (<=>) بگذار.

۱۲  ۱۲

۶  ۵

۱۳  ۱۴

۱۷  ۱۸

۷  ۸


۱۴  ۱۶

۵) با کمک محور تفریق کن.




۸ - ۳ = .....


۶) دور عدد مناسب خط بسته بکش .



۶      ۷      ۸



۱۴      ۱۵      ۱۶



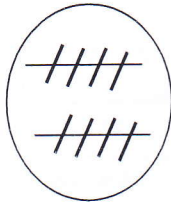
۱۶      ۱۷      ۱۸

۷) در جاهای خالی عدد مناسب بنویس .



..... = .....

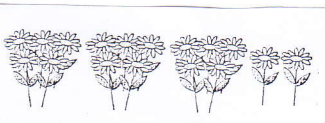
۹) با توجه به عدد داده شده شکل را کامل کن .



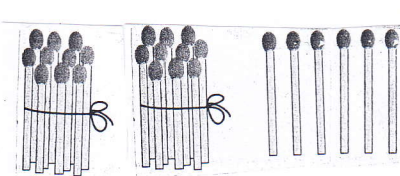
۸) جدول شگفت انگیز را کامل کنید .

	۲	۳	۶	۴	۱
۶	۴		۳		۲
۴	۳	۵	۲	۱	۶
۱	۶		۴	۳	۵
۲	۵		۱		۳
	۱	۶	۵	۲	۴

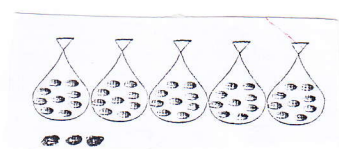
۱۰) با توجه به شکل ها در جاهای خالی عدد مناسب بنویس .



..... دسته ی ۵ تایی و ..... یکی



..... دسته ی ده تایی و ..... یکی



..... دسته ی ۹ تایی و ..... یکی

۱۱) طول ماشین چند تا چینه است ؟ با چوب خط و عدد نشان بده .

