
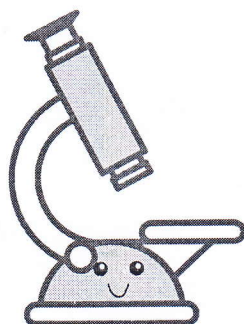


مجتمع آموزشی ، فرهنگی دکتر حسابی
مقطع ابتدایی



ارزشیابی شماره ۱
کلاس چهارم



۱۳۹۷ / ۹ / ۱۳

قرآن (سؤالات ۱ تا ۳)

فارسی (سؤالات ۴ تا ۱۳)

هدیه ها (سؤالات ۱۴ تا ۱۶)

مطالعات اجتماعی (۱۷ تا ۲۲)

ریاضی (سؤالات ۲۳ تا ۳۱)

علوم (سؤالات ۳۳ تا ۴۰)

کد :

نام و نام خانوادگی :

قرآن

۱- در کدام کلمه، حرف ناخوانا وجود دارد؟

- (۱) تُؤْتِرُونَ (۲) مَبْعُوثُونَ (۳) مَرْقُوم (۴) يَقُوم

۲- کلمه‌ی «واحدَة» هنگام وقت چگونه خوانده می‌شود؟

- (۱) واحِدَةٌ (۲) واحِدَاتَا (۳) واحِدَةٌ (۴) واحِدَة

۳- خداوند در آیه‌ی «قَدْ أَفْلَحَ الْمُؤْمِنُونَ الَّذِينَ هُمْ فِي صَلَاتِهِمْ خَاشِعُونَ» کدام فضیلت اخلاقی را به روشنی بیان کرده است؟

- (۱) تواضع و فروتنی در نماز
(۲) صلوات فرستادن بر پیامبر (ص) و خاندانش
(۳) صلوات فرستادن بر پیامبر (ص) و برپا داشتن نماز
(۴) فروتنی در برخورد با مؤمنان و نمازگزاران

فارسی

۴- اجزا کدام گزینه نادرست معرفی شده‌اند؟

- (۱) دل‌نشین ← دل + نشین
(۲) پرتگاه ← پرت + گاه
(۳) بازیگوش ← بازی + گوش
(۴) کوچولو ← کوچ + لو

۵- معنی واژگان مشخص شده در کدام گزینه آمده است؟

- گفت طوطی را؟ چه خواهی ارمغان
(۱) ارغوان، کالای هندی
(۲) سوغاتی، سرزمین هندوستان
(۳) نام دختر است، مرز هندوستان
(۴) هدیه، خط هندی

۶- در جملات زیر، علامت‌هایی که داخل کمانک قرار می‌گیرند، به ترتیب در کدام گزینه آمده است؟

- آفرین به این نظر درست ()
- عجب عنکبوتی ()
- رازیانه چه نوع گلی است ()
- پنجره را ببند ()
(۱) ؟!! (۲) !..؟ (۳) ؟..!! (۴) ؟!!!

۷- مقصود از «گفتِ خام» در بیت «این چرا کردم؟ چرا دادم پیام؟ سوختم بیچاره را زین گفتِ خام» چیست؟

(۱) گفت و گو (۲) سخن نسنجیده (۳) کال (۴) پخته

۸- در کدام گزینه دو غلط املائی وجود دارد؟

- (۱) پرستوها در حوای سرد ناچار می‌شوند به جاهای معتدل‌تری کوچ کنند.
(۲) در سفر تولانی پرستوها، خطرهای بسیاری وجود دارد.
(۳) پرستوها پس از سپری شدن زمان دراز بدون اشتباه به لانه‌های پیشین خود بازمی‌گردند.
(۴) دشت‌ها جامعه‌ی سبز می‌پوشند و پرستوها از صفر دور و دراز خود، بازمی‌گردند.

۹- علائم نگارشی « : ، ؟ ! » در کدام گزینه به درستی رعایت نشده است؟

(۱) حاکم گفت: «پسر جان! اگر تو الاغ را ندیده‌ای، چطور نشانی‌هایش را دادی؟»

(۲) پسر جواب داد: «من، الاغی ندیدم.»

(۳) امیر گفت: «ما به دانش و آگاهی تو نیاز داریم. حاضری به جوانان ما چیزی بیاموزی!»

(۴) روزی امیر شهر، نزد حکیم رفت و گفت: «ای مرد دانا! هرچه می‌دانستی به جوانان ما آموختی. اکنون چیزی هم به من بیاموز!»

۱۰- کدام عبارت صحیح است؟

(۱) ارض مستطیل (۲) حیات خانه (۳) خوار گل (۴) قضای الهی

۱۱- کدام کلمه، با بقیه فرق دارد؟

(۱) سرانجام (۲) روزگار (۳) سرزمین (۴) سربلند

۱۲- جاهای خالی جمله‌های زیر، به ترتیب با واژه‌های کدام گزینه تکمیل می‌شود؟

(الف) پرید سر ظرف و شروع به خوردن کرد. (ب) شاید او یک روز از قفس بیرون بیاید و قدم و هزار قدم جلو برود. (ج) آن طوطی از آسمان در حبس ماست. (د) روزی بازرگان تصمیم گرفت به هندوستان کند.

(الف) سفر - غذا - قضا - صد (ب) سفر - غذا - قضا - صد (ج) سفر - غذا - قضا - صد (د) سفر - غذا - قضا - صد

(الف) سفر - غذا - قضا - صد (ب) سفر - غذا - قضا - صد (ج) سفر - غذا - قضا - صد (د) سفر - غذا - قضا - صد

(الف) سفر - غذا - قضا - صد (ب) سفر - غذا - قضا - صد (ج) سفر - غذا - قضا - صد (د) سفر - غذا - قضا - صد

(الف) سفر - غذا - قضا - صد (ب) سفر - غذا - قضا - صد (ج) سفر - غذا - قضا - صد (د) سفر - غذا - قضا - صد

(الف) سفر - غذا - قضا - صد (ب) سفر - غذا - قضا - صد (ج) سفر - غذا - قضا - صد (د) سفر - غذا - قضا - صد

۱۳- با توجه به کلمه‌های داخل پرانتز، کدام جمله غلط املایی دارد؟

(۱) او می‌خواست یک مرکز علمی بسازد. (خواست - خاست)

(۲) بوته‌های خار را از جا می‌کند. (خوار - خار)

(۳) خان ظالمی در آن‌جا زندگی می‌کرد. (خان - خوان)

(۴) او به آرامی از ارض خیابان عبور کرد. (ارض - عرض)

هدیه‌ها

۱۴- کدام یک از گزینه‌های زیر در مورد «مسجد قبا» نادرست است؟

(۱) این مسجد، اولین مسجدی است که پیامبر اسلام صلی‌الله‌علیه‌وآله و یارانش ساختند.

(۲) این مسجد در نزدیکی شهر مدینه ساخته شده است.

(۳) آرامگاه پیامبر صلی‌الله‌علیه‌وآله در کنار همین مسجد قرار دارد.

(۴) این مسجد هنوز پابرجاست و مسلمانان در آن عبادت می‌کنند.

۱۵- «بنی اسرائیل» به چه کسانی گفته می‌شود؟

(۱) دشمنان حضرت عیسی (ع) (۲) پیروان فرعون

(۳) دشمنان حضرت موسی (ع) (۴) پیروان حضرت موسی (ع)

۱۶) این سخن از کیست؟

« هر کس وضو بگیرد و به سوی نماز جماعت حرکت کند برای هر قدمی که بر می دارد خدا پاداشی به او می دهد »
 (۱) امام علی (ع) (۲) پیامبر (ص) (۳) امام حسن (ع) (۴) امام حسین (ع)

مطالعات اجتماعی

۱۷- مردم عشایر چه چیزهایی تولید می کنند؟

(۱) محصولات کشاورزی (۲) گوشت و لبنیات (۳) گلیم و جاجیم (۴) مورد ۲ و ۳

۱۸- جمعیت کدام یک از همه کم تر است؟

(۱) عشایر (۲) روستاییان (۳) شهرها (۴) هیچ کدام

۱۹- مغازه ها، ادارات، فروشگاه ها معمولاً در شهر قرار دارد.

(۱) اطراف (۲) مرکز شهر (۳) خارج از شهر (۴) هیچ کدام

۲۰- اگر شما بخواهید مرکز استانی را که در آن زندگی می کنید با استفاده از نقشه پیدا کنید، به کدام گزینه بیش تر توجه می کنید؟

(۱) جهت های نقشه (۲) راهنمای نقشه (۳) رنگ نقشه (۴) اندازه ی نقشه

۲۱- یکی از راه های شناخت محیط زندگی خود و دیگران، استفاده از است.

(۱) نقشه (۲) گره های جغرافیا (۳) دانش جغرافیا (۴) عکس

۲۲- به پولی که ذخیره می شود، چه می گویند؟

(۱) پس انداز (۲) هزینه (۳) درآمد (۴) بودجه

ریاضی

۲۳- اگر به عدد ۹۴۵۶۲۸ بیست هزار اضافه کنیم کدام رقم تغییر می کند؟

(۱) ۶ (۲) ۹ (۳) ۵ (۴) ۴

۲۴- کدام عدد مساوی ۳۸۲۴۹ می باشد؟

(۱) ۹ یکی و ۴ ده تایی و ۱۱ هزار تایی و ۷ ده هزار تایی
 (۲) ۹ یکی و ۴ ده تایی و ۲ صد تایی و ۳۷ هزار تایی
 (۳) ۹ یکی و ۴ ده تایی و ۱۲ صد تایی و ۷ هزار تایی و ۳ ده هزار تایی
 (۴) ۹ یکی و ۴ ده تایی و ۲ صد تایی و ۲۸ هزار تایی


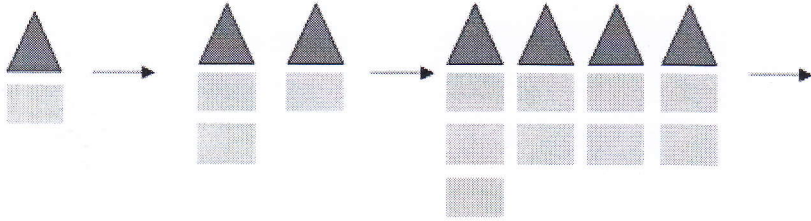
۲۵- پروانه کیک تولدش را به ۱۳ قسمت مساوی تقسیم کرد تا از میهمانانش پذیرایی کند. هر قسمت از این کیک چه کسری از کیک کامل است؟

(۱) $\frac{13}{13}$ (۲) $\frac{1}{13}$ (۳) $\frac{13}{1}$ (۴) $\frac{1}{13}$


۲۶- کوچک ترین عدد شش رقمی بدون تکرار رقم ها کدام است؟

(۱) ۱۲۳۴۵۶ (۲) ۱۰۲۳۴۵ (۳) ۱۲۰۳۴۵ (۴) ۱۲۳۴۵۰


۲۷- با توجه به الگوی مقابل شکل چهارم کدام است؟




(۱)



(۲)



(۳)



(۴)

۱, ۳, ۹, ۲۷, ?

۱۴۳ (۴)

۴۵ (۳)

۲۸- در سری اعداد مقابل، عدد بعدی کدام است؟

۳۶ (۲)

۸۱ (۱)

۲۹- اگر عدد ۴۱۳۵۰۶۷ را به صورت گسترده بنویسیم، رقم ۳ به کدام صورت نوشته می شود؟

۳۰۰۰۰۰ (۴)

۳۵۰۶۷ (۳)

۳۰۰۰۰ (۲)

۳۰۰۰ (۱)

۳۰- خروجی ماشین زیر کدام است؟



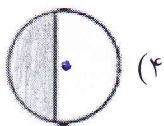
۱۱۲۰۰ (۴)

۱۱۲۰۰۰۰ (۳)

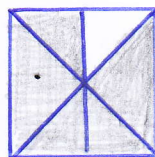
۸۰۰ (۲)

۲۲۰۰ (۱)


۳۱- کدام شکل، کسر کوچک تر از $\frac{1}{4}$ را نشان می دهد؟




(۴)



(۳)

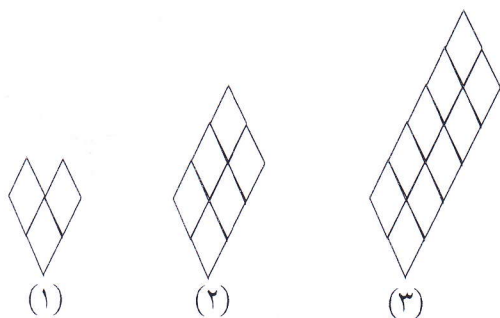


(۲)



(۱)

۳۲- با توجه به الگوی زیر، شکل ششم از چند لوزی تشکیل شده است؟



(۱) ۲۵ (۲) ۲۳ (۳) ۳۳ (۴) ۳۰

علوم

۳۳- اولین کاری که یک دانشمند درباره ی هر اتفاقی انجام می دهد کدام است؟
 (۱) خوب مشاهده می کند (۲) با دقت فکر می کند (۳) آزمایش می کند (۴) نتیجه گیری می کند

۳۴- فایده های استفاده از انرژی خورشید کدام است؟

- (۱) باعث آلودگی هوا نمی شود، به میزان زیاد در دسترس می باشد و رایگان هم می باشد.
- (۲) آلودگی کمی دارد، همیشه در دسترس می باشد و رایگان هم هست.
- (۳) انرژی بسیار زیادی دارد، همیشه در دسترس می باشد و رایگان است.
- (۴) به زودی قابل اتمام است، همیشه رایگان است و میزان کمی آلودگی دارد.

۳۵- هنگام کار با سیم های برق، از کدام وسیله می توان استفاده کرد؟

- (۱) پارچه ی مرطوب (۲) پلاستیک (۳) میله ی آلومینیومی (۴) میله مسی

۳۶- کدام گزینه صحیح است؟

- (۱) مخلوط شکر و نمک یک محلول است زیرا نمی توان شکر را از نمک جدا کرد.
- (۲) مخلوط شکر و نمک یک محلول است زیرا این مخلوط در آب حل می شود.
- (۳) شکر در چای سرد دیرتر از آب گرم حل می شود زیرا گرما سرعت حل شدن مواد را افزایش می دهد.
- (۴) شکر در چای سرد زودتر از آب گرم حل می شود زیرا چای و شکر مخلوط یک نواخت هستند.

۳۷- با داشتن کدام یک از مواد زیر مخلوط یک نواخت سریع تری به دست می آید؟

- (۱) آب نیم گرم و پودر نبات
- (۲) آب سرد با شاخه ی نبات
- (۳) آب سرد با پودر نبات
- (۴) آب نیم گرم با نبات خرد شده


۳۸- اجزای کدام یک از مخلوط های زیر را می توان با کاغذ صافی جدا کرد؟

- (۱) آب و شن (۲) آب و شکر (۳) آب و نمک (۴) آب و سرکه

۳۹- کدام یک، بزرگ ترین منبع انرژی را نشان می دهد؟

- (۱) آب جاری (۲) سوخت ها (۳) خورشید (۴) باد شدید

۴۰- در مدار زیر هرگاه در داخل ظرف آب مقطر بریزیم خواهیم دید که لامپ روشن نمی شود



اما با ریختن مقداری نمک داخل آب مقطر و هم زدن محلول چراغ روشن می شود
 با توجه به این آزمایش چه نتیجه ای می توان گرفت؟

- (۱) آب مقطر نارسانا و آب نمک رسانی است
- (۲) آب مقطر و آب نمک هر دو نارسانا هستند
- (۳) آب مقطر و آب نمک هر دو رسانی هستند



یالطیف

اداره ی آموزش و پرورش ناحیه ۴
مجتمع آموزشی، فرهنگی دکتر حسابی - مقطع ابتدایی
ارزشیابی شماره ۲

تاریخ: ۱۳۹۷ / ۱۲ / ۱۴

کلاس چهارم فرهنگ ۱ ۲

نام و نام خانوادگی:

	۱	۲	۳	۴
۱)	<input type="checkbox"/>	<input type="checkbox"/>	<input type="checkbox"/>	<input type="checkbox"/>
۲)	<input type="checkbox"/>	<input type="checkbox"/>	<input type="checkbox"/>	<input type="checkbox"/>
۳)	<input type="checkbox"/>	<input type="checkbox"/>	<input type="checkbox"/>	<input type="checkbox"/>
۴)	<input type="checkbox"/>	<input type="checkbox"/>	<input type="checkbox"/>	<input type="checkbox"/>
۵)	<input type="checkbox"/>	<input type="checkbox"/>	<input type="checkbox"/>	<input type="checkbox"/>
۶)	<input type="checkbox"/>	<input type="checkbox"/>	<input type="checkbox"/>	<input type="checkbox"/>
۷)	<input type="checkbox"/>	<input type="checkbox"/>	<input type="checkbox"/>	<input type="checkbox"/>
۸)	<input type="checkbox"/>	<input type="checkbox"/>	<input type="checkbox"/>	<input type="checkbox"/>
۹)	<input type="checkbox"/>	<input type="checkbox"/>	<input type="checkbox"/>	<input type="checkbox"/>
۱۰)	<input type="checkbox"/>	<input type="checkbox"/>	<input type="checkbox"/>	<input type="checkbox"/>
۱۱)	<input type="checkbox"/>	<input type="checkbox"/>	<input type="checkbox"/>	<input type="checkbox"/>
۱۲)	<input type="checkbox"/>	<input type="checkbox"/>	<input type="checkbox"/>	<input type="checkbox"/>
۱۳)	<input type="checkbox"/>	<input type="checkbox"/>	<input type="checkbox"/>	<input type="checkbox"/>
۱۴)	<input type="checkbox"/>	<input type="checkbox"/>	<input type="checkbox"/>	<input type="checkbox"/>
۱۵)	<input type="checkbox"/>	<input type="checkbox"/>	<input type="checkbox"/>	<input type="checkbox"/>
۱۶)	<input type="checkbox"/>	<input type="checkbox"/>	<input type="checkbox"/>	<input type="checkbox"/>
۱۷)	<input type="checkbox"/>	<input type="checkbox"/>	<input type="checkbox"/>	<input type="checkbox"/>

	۱	۲	۳	۴
۱۸)	<input type="checkbox"/>	<input type="checkbox"/>	<input type="checkbox"/>	<input type="checkbox"/>
۱۹)	<input type="checkbox"/>	<input type="checkbox"/>	<input type="checkbox"/>	<input type="checkbox"/>
۲۰)	<input type="checkbox"/>	<input type="checkbox"/>	<input type="checkbox"/>	<input type="checkbox"/>
۲۱)	<input type="checkbox"/>	<input type="checkbox"/>	<input type="checkbox"/>	<input type="checkbox"/>
۲۲)	<input type="checkbox"/>	<input type="checkbox"/>	<input type="checkbox"/>	<input type="checkbox"/>
۲۳)	<input type="checkbox"/>	<input type="checkbox"/>	<input type="checkbox"/>	<input type="checkbox"/>
۲۴)	<input type="checkbox"/>	<input type="checkbox"/>	<input type="checkbox"/>	<input type="checkbox"/>
۲۵)	<input type="checkbox"/>	<input type="checkbox"/>	<input type="checkbox"/>	<input type="checkbox"/>
۲۶)	<input type="checkbox"/>	<input type="checkbox"/>	<input type="checkbox"/>	<input type="checkbox"/>
۲۷)	<input type="checkbox"/>	<input type="checkbox"/>	<input type="checkbox"/>	<input type="checkbox"/>
۲۸)	<input type="checkbox"/>	<input type="checkbox"/>	<input type="checkbox"/>	<input type="checkbox"/>
۲۹)	<input type="checkbox"/>	<input type="checkbox"/>	<input type="checkbox"/>	<input type="checkbox"/>
۳۰)	<input type="checkbox"/>	<input type="checkbox"/>	<input type="checkbox"/>	<input type="checkbox"/>
۳۱)	<input type="checkbox"/>	<input type="checkbox"/>	<input type="checkbox"/>	<input type="checkbox"/>
۳۲)	<input type="checkbox"/>	<input type="checkbox"/>	<input type="checkbox"/>	<input type="checkbox"/>
۳۳)	<input type="checkbox"/>	<input type="checkbox"/>	<input type="checkbox"/>	<input type="checkbox"/>
۳۴)	<input type="checkbox"/>	<input type="checkbox"/>	<input type="checkbox"/>	<input type="checkbox"/>

	۱	۲	۳	۴
۳۵)	<input type="checkbox"/>	<input type="checkbox"/>	<input type="checkbox"/>	<input type="checkbox"/>
۳۶)	<input type="checkbox"/>	<input type="checkbox"/>	<input type="checkbox"/>	<input type="checkbox"/>
۳۷)	<input type="checkbox"/>	<input type="checkbox"/>	<input type="checkbox"/>	<input type="checkbox"/>
۳۸)	<input type="checkbox"/>	<input type="checkbox"/>	<input type="checkbox"/>	<input type="checkbox"/>
۳۹)	<input type="checkbox"/>	<input type="checkbox"/>	<input type="checkbox"/>	<input type="checkbox"/>
۴۰)	<input type="checkbox"/>	<input type="checkbox"/>	<input type="checkbox"/>	<input type="checkbox"/>
۴۱)	<input type="checkbox"/>	<input type="checkbox"/>	<input type="checkbox"/>	<input type="checkbox"/>
۴۲)	<input type="checkbox"/>	<input type="checkbox"/>	<input type="checkbox"/>	<input type="checkbox"/>
۴۳)	<input type="checkbox"/>	<input type="checkbox"/>	<input type="checkbox"/>	<input type="checkbox"/>
۴۴)	<input type="checkbox"/>	<input type="checkbox"/>	<input type="checkbox"/>	<input type="checkbox"/>
۴۵)	<input type="checkbox"/>	<input type="checkbox"/>	<input type="checkbox"/>	<input type="checkbox"/>
۴۶)	<input type="checkbox"/>	<input type="checkbox"/>	<input type="checkbox"/>	<input type="checkbox"/>
۴۷)	<input type="checkbox"/>	<input type="checkbox"/>	<input type="checkbox"/>	<input type="checkbox"/>
۴۸)	<input type="checkbox"/>	<input type="checkbox"/>	<input type="checkbox"/>	<input type="checkbox"/>
۴۹)	<input type="checkbox"/>	<input type="checkbox"/>	<input type="checkbox"/>	<input type="checkbox"/>
۵۰)	<input type="checkbox"/>	<input type="checkbox"/>	<input type="checkbox"/>	<input type="checkbox"/>