

نام و نام خانوادگی:

مجتمع آموزشی، فرهنگی دکتر حسابی - مقطع ابتدایی

کد:










آزمون عملکردی ریاضی ۱ (ساعت)

تاریخ: ۱۳۹۷/۱۱/۱۰


سال تحصیلی - ۹۸ - ۱۳۹۷

دوم دانش ۱  ۲

پسر خوبم، هر کدام از زمان های خواسته شده را روی ساعت نشان بده و جاهای خالی را مانند نمونه کامل کن.

ساعت رفتن به مدرسه	ساعت خوردن صبحانه	ساعت بیدار شدن از خواب
 <p>..... : .....</p> <p>ساعت ..... و ..... دقیقه است . ..... دقیقه مانده به ساعت ..... ۲۵ دقیقه بعد ساعت ..... می شود.</p>	 <p>..... : .....</p> <p>ساعت ..... و ..... دقیقه است . ..... دقیقه مانده به ساعت ..... نیم ساعت بعد ساعت ..... می شود.</p>	 <p>..... : .....</p> <p>ساعت ..... و ..... دقیقه است . ..... دقیقه مانده به ساعت ..... یک ربع بعد ساعت ..... می شود.</p>
ساعت رسیدن به منزل	ساعت تعطیل شدن مدرسه	ساعت شروع صبحگاه مدرسه
 <p>..... : .....</p> <p>ساعت ..... و ..... دقیقه است . ..... دقیقه مانده به ساعت ..... ۲۰ دقیقه بعد ساعت ..... می شود.</p>	 <p>۱ : ۵۰</p> <p>ساعت ..... و ..... دقیقه است . ۱۰ دقیقه مانده به ساعت ۲ یک ربع قبل ساعت ..... می شود.</p>	 <p>..... : .....</p> <p>ساعت ..... و ..... دقیقه است . ..... دقیقه مانده به ساعت ..... یک ربع بعد ساعت ۸ می شود . نیم ساعت قبل ساعت ۱۵ : ۷ بوده است.</p>
ساعت پایان تکلیف مدرسه	ساعت شروع به نوشتن تکلیف مدرسه	ساعت خوردن ناهار
 <p>..... : .....</p> <p>ساعت ..... و ..... دقیقه است . ..... دقیقه مانده به ساعت ..... یک ربع بعد ساعت ..... می شود.</p>	 <p>..... : .....</p> <p>ساعت ..... و ..... دقیقه است . ..... دقیقه مانده به ساعت ..... نیم ساعت قبل ساعت ..... بوده است.</p>	 <p>..... : .....</p> <p>ساعت ..... و ..... دقیقه است . ..... دقیقه مانده به ساعت ..... ۳۵ دقیقه بعد ساعت ..... می شود.</p>


ساعت شروع به تماشای تلویزیون



..... : .....

ساعت ..... و ..... دقیقه است .  
..... دقیقه مانده به ساعت .....  
۴۰ دقیقه بعد ساعت ..... می شود.


ساعت پایان مطالعه ی درس ها



..... : .....

ساعت ..... و ..... دقیقه است .  
..... دقیقه مانده به ساعت .....  
نیم ساعت بعد ساعت ..... می شود.


ساعت شروع مطالعه ی درس ها



..... : .....

ساعت ..... و ..... دقیقه است .  
..... دقیقه مانده به ساعت .....  
۱۰ دقیقه بعد ساعت ..... می شود.


ساعت رفتن به رختخواب



..... : .....

ساعت ..... و ..... دقیقه است .  
..... دقیقه مانده به ساعت .....  
۳۰ دقیقه بعد ساعت ..... می شود.


ساعت مسواک زدن



..... : .....

ساعت ..... و ..... دقیقه است .  
..... دقیقه مانده به ساعت .....  
۱۵ دقیقه بعد ساعت ..... می شود.

ساعت پایان تماشای تلویزیون



..... : .....

ساعت ..... و ..... دقیقه است .  
..... دقیقه مانده به ساعت .....  
یه ربع بعد ساعت ..... می شود.

ولی محترم ، در راستای بررسی عملکرد فرزند دلبندتان در فعالیت خواسته شده ، جدول زیر را تکمیل کنید .

نیاز به تلاش	قابل قبول	خوب	خیلی خوب	انتظارات از دانش آموز
				نحوه ی استفاده از خط کش ، برای کشیدن عقربه ها را می داند .
				عقربه ی ساعت شمار را در جای مناسب رسم می کند .
				عقربه ی دقیقه شمار را در جای مناسب رسم می کند .
				زمان را به درستی به عدد می نویسد .
				زمان را به درستی به حروف می نویسد .
				زمان را به درستی به صورت ربع و نیم بیان می کند .
				قبل و بعد زمان های خواسته شده را به درستی بیان می کند .

(هنمود معلم) : .....

