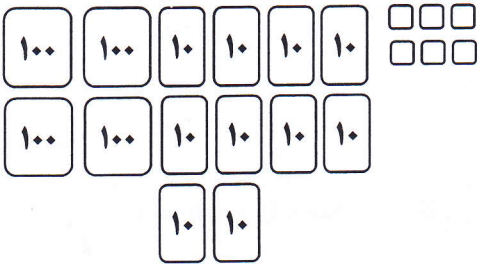


۱) با توجه به شکل ها، جدول و جاهای خالی را کامل کن.

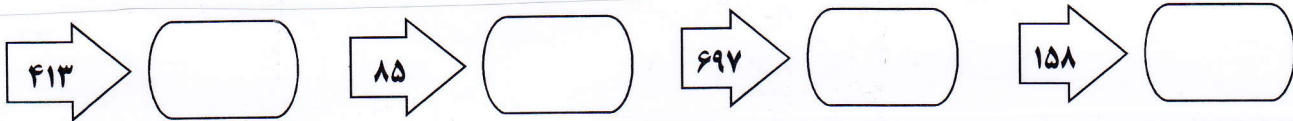


صدگان	دهگان	یکان


به عدد:

به حروف:


۲) عددهای زیر را به صورت تقریبی بنویس.



۳) با توجه به هر شکل، جاهای خالی را کامل کن.



..... قسمت از قسمت مساوی رنگ نشده است.



..... قسمت از قسمت مساوی رنگ شده است.

۴) با کارت رقم های ۱، ۳، ۸ و عددهای سه رقمی خواسته شده را بنویس.

یکان آن از همه کمتر باشد: - صدگان آن بیشتر از دهگان باشد:

۵) حاصل جمع ها و تفریق ها را به دست آور.

$\begin{array}{r} ۲۱۶ \\ + ۵۳۸ \\ \hline \end{array}$	$\begin{array}{r} ۸۷۰ \\ - ۳۴۶ \\ \hline \end{array}$	$۱۰۰ - \square = ۶۰$	$۲۰ + ۵ + ۱۰ + ۵ + ۳ + ۲۰۰ + ۳ = \square$
			$۲۴۰ + ۱۳۰ = \square$

۶) خط را اندازه بگیر و جاهای خالی را کامل کن.



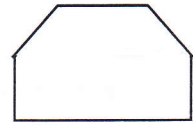


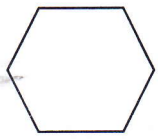
- اندازه ی خط سانتی متر و میلی متر است.

- اندازه ی خط میلی متر است.

۷) الگوهای عددی زیر را ادامه بده.



۸) برای هر کدام از شکل های زیر که می توانی یک خط تقارن بکش .



۹) مهدی ۷۳۵ ریال پول داشت . اگر او یک دفتر به قیمت ۲۱۳ ریال و یک کتاب به قیمت ۳۴۷ ریال بخرد ، چند ریال برایش باقی می ماند ؟

۱۰) حاصل جمع و تفریق زیر را با حذف رقم یکان و دهگان به صورت تقریبی بنویس .


$$۴۰۳ \rightarrow \dots\dots\dots$$

$$+ ۲۵۲ \rightarrow + \dots\dots\dots$$

$$۹۶۸ \rightarrow \dots\dots\dots$$

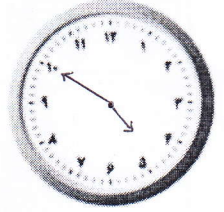
$$- ۷۹۶ \rightarrow - \dots\dots\dots$$

۱۱) ساعت ها را بخوان و بنویس .



ساعت یازده و ربع است

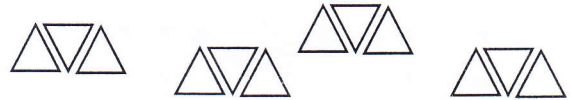

..... :



ساعت و دقیقه است .

..... دقیقه مانده به ساعت

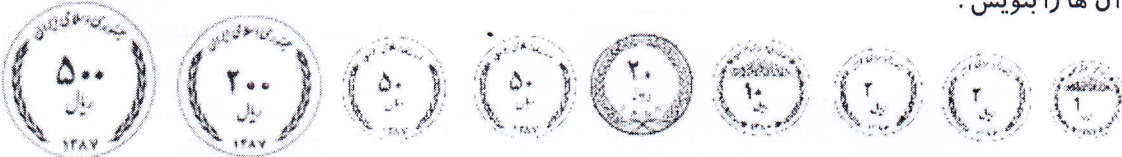
۱۲) با توجه به شکل ها ، جاهای خالی را کامل کن .



..... دسته ی تایی می شود

..... دسته ی تایی می شود


۱۳) سکه ها را بشمار و مقدار آن ها را بنویس .



..... ریال

۱۴) نام های دانش آموزان یک کلاس در جدول زیر آمده است . نمودار ستونی آن را کامل کن و به سؤال ها پاسخ بده .

نام	علی	محمد	مهدی	امیر	رضا
تعداد	۴	۷	۳	۸	۲



- کدام نام از همه کمتر است ؟

- کدام نام از همه بیشتر است ؟

- تعداد کل دانش آموزان چند نفر است ؟