



مقطع ابتدایی

تکلیف منزل ریاضی - کلاس اول اندیشه ۱ ○ ۲ ○

سال تحصیلی ۹۸-۱۳۹۷

نام:

نام خانوادگی:

کد:

مورخ: ۹۷/ ۱۱ / ۳۰

۱) با کمک محور جمع یا تفریق کن.



$7 + 5 =$



$6 + 4 =$



$8 + 7 =$



$3 + 3 + 5 =$



$9 - 5 =$





$10 - 3 =$





$15 - 6 =$



۲) برای هر قسمت جمع بنویس .



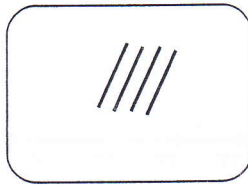
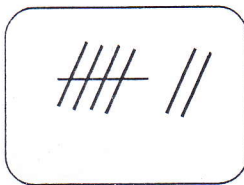
..... + =



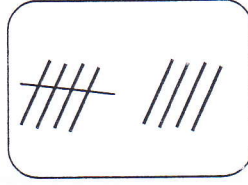
..... + =



..... + =



..... + =




..... + =


۳) برای هر قسمت تفریق بنویس .



..... - =



..... - =



..... - =

وضعیت دانش آموز در انجام این ارزشیابی: خیلی خوب □ خوب □ قابل قبول □ نیاز به تلاش □ بوده است .

نکته ی مورد پیگیری

یادداشت ضروری