


۱) چرتکه چه عددی را نشان می دهد؟



با رقم: .....

با حروف: .....

۲) عدد داخل مربع به کدام عدد نزدیکتر است؟ آن دایره را رنگ بزن.



۳) به جای ○ عدد مناسب بنویسید.

$$20 + \bigcirc = 34$$

$$\bigcirc + 50 = 70$$

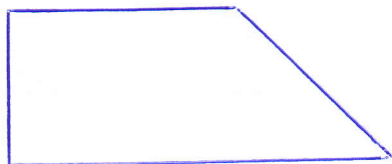
$$800 - 500 = \bigcirc$$

$$100 - \bigcirc = 40$$

$$70 - \bigcirc = 45$$

$$7 + 7 + 7 + 7 = \bigcirc$$

۴) ضلع های شکل مقابل را با خط کش اندازه بگیرید.



۵) جاهای خالی را کامل کنید.

- نیم ساعت یعنی ..... دقیقه.

- مربع و مستطیل هر دو ..... ضلع دارند.

- ۳۸۰ می شود ..... صدتایی و ..... ده تایی و ..... یکی.

- ۴۲ میلی متر یعنی ..... سانتی متر و ..... میلی متر.

- شکل تا گوشه دارد.


۶) الگوهای عددی زیر را ادامه دهید.

۱۲ - ۱۵ - ۱۸ -      -      -      -

۳ - ۶ - ۱۰ - ۱۵ -      -      -      -

۱۷۵ - ۲۷۵ -      -      -      -

۷) عبارت مربوط به محور را بنویسید.



۸) با سه عدد ۶ و ۰ و ۳ چهار عدد سه رقمی بسازید و بنویسید.


..... و ..... و .....

حالا از بین اعدادی که ساختی بزرگترین عدد سه رقمی را بنویسید.



۹) محمد ۵۳ کتاب داستان داشت. او در روز ۲۴ آبان ماه «روز کتاب و کتابخوانی» ۳۶ جلد از کتابش را به کتابخانه‌ی مدرسه هدیه داد. حالا محمد چند جلد کتاب دارد؟

۱۰) خط تقارن شکل‌های زیر را بکشید.



۱۱) سکه‌ها را بشمارید و مقدار آن‌ها را بنویسید.



۱۲) علامت <=> بگذارید.

دو صدتایی و نه ده تایی  سه صدتایی


یک ربع مانده به ۱۰  ۹:۴۵

۱۷  ۷۱

۲۸ میلی‌متر  ۳ سانتی‌متر

۱۰ - ۸۶  ۶۸ + ۱۰

۱۳) تفاوت و شباهت شکل‌های روبرو را بنویسید.

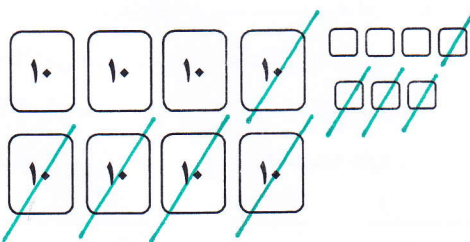


تفاوت: .....



شباهت: .....

۱۵) برای شکل زیر جمع یا تفریق بنویسید.



۱۴) ساعت چند است؟



چند دقیقه به ساعت ۴ مانده است؟ ..... دقیقه

ده دقیقه بعد ساعت چند می‌شود؟ .....

۱۶) باز شده‌ی اعداد زیر را بنویسید.

۶۴۲ =

۳۰۸ =

۱۷) حسین ۶۲ صفحه از کتابی را خواند. او ۱۹ صفحه دیگر باید بخواند تا کتاب تمام شود. کتاب حسین چند صفحه دارد؟