

نام و نام خانوادگی:

سوم پژوهش ۱ □ ۲ □

مجتمع آموزشی، فرهنگی دکتر حسابی - مقطع ابتدایی

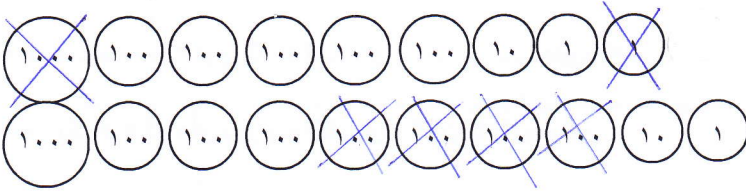
آزمون ریاضی

سال تحصیلی ۹۸ - ۱۳۹۷

کد:

تاریخ: ۱۳۹۸ / ۱ /

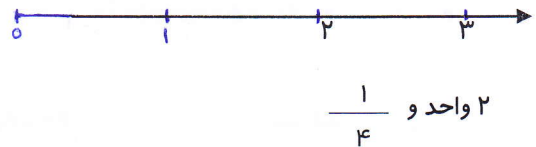
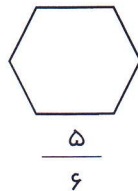
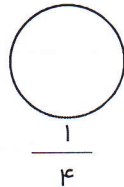
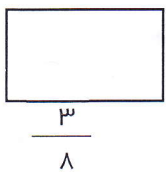
۱) عملیات مربوط به شکل مقابل را بنویس .



- حاصل عملیات را به حروف بنویس .

۲) دانش آموزان دبستان دکتر حسابی ساعت ۱۰ صبح به اردو رفتند و ساعت ۱ بعد از ظهر به مدرسه برگشتند . آن ها چند ساعت بیرون از مدرسه بودند ؟ ( همراه راه حل و جلو نویسی )

۳) کسرهای زیر را روی شکل نشان بده .



۴) مقایسه کن . < = >

$3 \times 9$  ○  $4 \times 6$

$\frac{6}{7}$  ○  $\frac{6}{10}$

$\frac{4}{8}$  ○  $\frac{5}{8}$

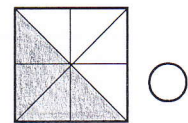
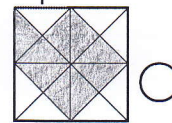
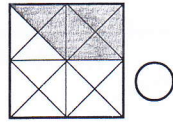
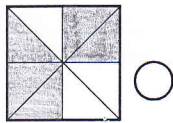
$\frac{1}{4}$  واحد و ۳ ○  $\frac{3}{4}$  واحد و ۲

$36 \div 9$  ○  $20 \div 5$

$2 \times (3 + 6)$  ○  $(2 \times 2) + (4 \times 3)$

۲۰۹۹ ○ ۲۸۰۹

۵) کسر مربوط به هر شکل را بنویس و شکلی که با  $\frac{1}{2}$  برابر است را با ⊗ مشخص کن .



۶) با رقم های ۳، ۲، ۰، ۹ کوچک ترین و بزرگ ترین عدد چهار رقمی را بنویس و اختلاف آن ها را هم محاسبه کن .

اختلاف:

بزرگ ترین:

کوچکترین:

۷) کامل کن .

۸۳۴۵ متر برابر است با ..... کیلومتر و ..... متر .

جرم یک وزنه ی ۳ کیلوگرمی و یک وزنه ی ۲۵۰ گرمی روی هم برابر است با ..... گرم .

(هنمود معلم):



۸) قیمت یک دفترچه ۲۴۳۸ تومان و قیمت یک جعبه مداد رنگی ۲۵۳۰ تومان است. برای خرید یک دفترچه و یک جعبه مداد رنگی چند تومان

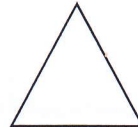

باید بپردازیم؟

این مبلغ برابر با چند ریال است؟ .....

۹) برای رسم دایره ای که قطر آن ۸ سانتی متر است. دهانه ی پرگار را چند سانتی متر باز می کنیم؟ .....

برای رسم دایره دهانه ی پرگار به اندازه ی ..... دایره باز می شود.

۱۰) هر یک از شکل های زیر چند قطر دارند؟ آن ها را رسم کن.



.....

.....

.....

.....

۱۱) تعداد پاره خط ها و نیم خط ها را در هر شکل بنویس.



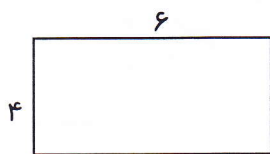
..... نیم خط

..... پاره خط

..... نیم خط

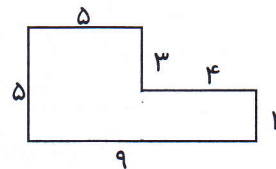
..... پاره خط

۱۲) محیط و مساحت شکل های زیر را محاسبه کن.



..... محیط

..... مساحت



..... محیط

..... مساحت

۱۳) ضرب و تقسیم زیر را روی محور مربوط به هر کدام انجام بده



۱۴) دانش آموزان یک کلاس در ۷ گروه ۴ نفره و یک گروه ۵ نفره دسته بندی شده اند. تعداد کل دانش آموزان این کلاس چند نفر است؟