

۱) تا می توانی دسته های ده تایی درست کن و جدول و جاهای خالی را کامل کن .

دهگان	یکان
.....
.....

به عدد:

به حروف:

۲) حاصل جمع و تفریق را با رسم شکل به دست آور .

$7 + 9 = \dots\dots\dots$

$17 - 8 = \dots\dots\dots$

۳) با کارت رقم های ۳ ، ۱ و ۷ تا می توانی عدد دو رقمی بنویس .

.....

۴) در یک باغچه ۲۸ گل زرد و صورتی است . اگر ۱۷ تا از گل ها صورتی باشد ، چند گل زرد در باغچه است ؟ (با رسم شکل)

۵) در جای خالی علامت $< = >$ بگذار .

۷۱  ۱۷

۳۰  ۲۰ + ۱۰

۵۳  ۵۸

۲۱  ۳۱

۶۳  ۴۲

۶) الگوهای عددی زیر را ادامه بده .

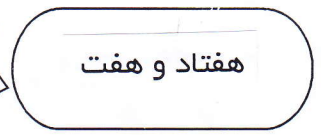

۲۶ ۲۷ ۲۸    



ارزشیابی: خیلی خوب خوب قابل قبول نیاز به تلاش بیشتر

(همنمود معلم):

۷) به حروف و عدد بنویس .



۸) جاهای خالی را کامل کن .

۲- ده تایی یعنی

۵۴- یعنی ده تایی و یکی .

- رقم یکان ۳ و رقم دهگان ۹ می شود

- رقم دهگان ۴ و رقم یکان ۳ تا کمتر از دهگان باشد

۹) تمام جمع هایی که حاصل آن ها ۴ می شود را بنویس .

..... + = ۴

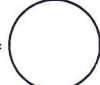
..... + = ۴


..... + = ۴

..... + = ۴


..... + = ۴

۱۰) حاصل عبارت های زیر را به دست آور .


$20 + 5 + 4 + 10 + 5 =$ 

$10 + 5 + 10 + 5 + 10 - 4 =$ 


۱۱) ساعت ها را بخوان و بنویس .



ساعت به مانده است .



ساعت ۵ است .



ساعت از گذشته است .

۱۲) حاصل عبارت زیر را از روی محور پیدا کن و بنویس .

$5 + 8 - 4 =$ 