
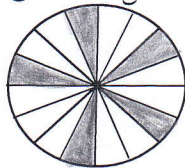


۵. با توجه به شکل‌ها جاهای خالی را کامل کن.

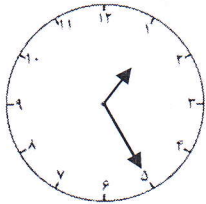


..... قسمت از قسمت مساوی رنگ نشده است.



..... قسمت از قسمت مساوی رنگ شده است.

۶. با توجه به ساعت، به سؤال‌ها پاسخ بده.



الف) ساعت چند است؟

ب) یک ربع قبل، ساعت چند بوده است؟

ج) چند دقیقه به ساعت ۲ مانده است؟

۷. جدول زیر را کامل کن.

عدد	باز شده‌ی عدد	تقریب (حذف یکان)	تقریب (حذف یکان و دهگان)	تقریب (گرد کردن)
	$300 + 20 + 5$			
۴۰۳				
	$800 + 90 + 7$			

۸. با توجه به جدول داده شده، جدول و جاهای خالی را کامل کن.

صدگان	دهگان	یکان	→	صدگان	دهگان	یکان
۱	۳۴	۲۷				

به رقم:

رهنمود معلم: