

نام و نام خانوادگی:

اول اندیشه ۱ □ ۲ □

مجتمع آموزشی، فرهنگی دکتر حسابی - مقطع ابتدایی


آزمون ریاضی (دی ماه)

سال تحصیلی ۹۸ - ۱۳۹۷

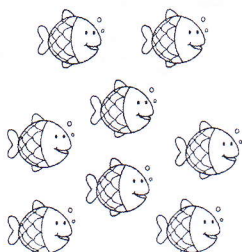
کد:

تاریخ: ۱۳۹۷/۱۰/۱۱



۱) شکل سمت راست را رنگ بزن.




۲) به تعداد عدد داده شده از شکل ها جدا کن.



۳) به هر شکل دوتا اضافه کن و عدد آن را بنویس.



۴) در جاهای خالی عددهای نوشته نشده را بنویس.





۵) مربع شگفت انگیز زیر را کامل کن.



۲	۳		۴	۱	۶
۱	۶	۴		۳	۵
۵	۲	۱	۶		۳
۶	۴	۳	۱	۵	
	۵	۲	۳		۱
۳		۶	۵	۲	۴

۶) یکی قبل را در سمت چپ و یکی بعد را در سمت راست چوب خط

بکش.



۷) اندازه ی مواد چند چینه است؟ با چوب خط و عدد نشان بده.



همراه معلم:

۸) عدد هر دسته را بنویس ، سپس علامت مناسب (<=>) بگذار .

<input type="text"/>	<input type="text"/>	<input type="text"/>	<input type="text"/>	<input type="text"/>

۹) الگوها را ادامه بده .

آ	ب	ب	<input type="text"/>	<input type="text"/>	<input type="text"/>	<input type="text"/>	<input type="text"/>	<input type="text"/>	<input type="text"/>

۱۰) اگر به اندازه ی شکل های سمت راست از شکل های سمت چپ برداریم چه عددی باقی می ماند ؟ عدد آن را بنویس و با چوب خط نشان بده .

۱۱) عدد مربوط به هر شکل را در زیر آن بنویس . با چوب خط حساب کن و حاصل جمع را بنویس .

	+		=	<input type="text"/>
--	---	--	---	----------------------

..... + =

۱۳) هر شکل چند لبه دارد ؟ عدد آن را بنویس .

	→			→	
--	---	--	--	---	--

۱۲) یک خط بسته بکش که ۲ داخل و ۷ روی خط و ۸ خارج خط بسته باشد .

۷	
۲	۸

۱۴) از شکل های سمت راست آن قدر رنگ بزن که اندازه ی شکل های سمت چپ رنگ نزده باقی بماند .

--	--