




کد:

تاریخ: / / ۱۳۹

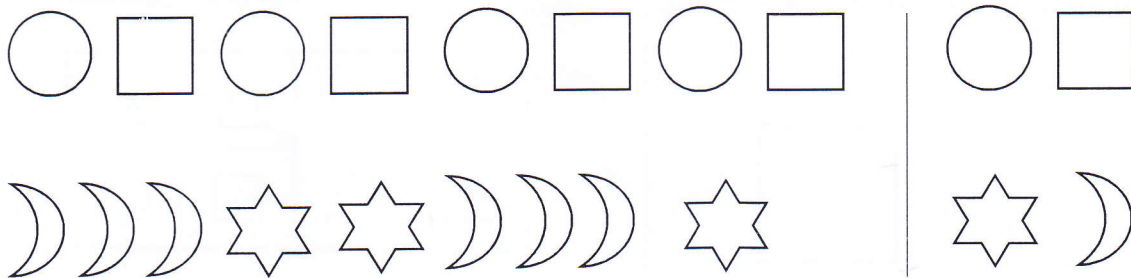
ب) یک خط بسته بکش که سیب روی خط ، توت فرنگی داخل خط و گلابی خارج خط بسته باشد .




الف) شکل سمت چپ را رنگ کن و دور شکل سمت راست خط بسته بکش .




پ) شکل بعدی الگو را انتخاب کن .





ت) شکل های سمت چپ و راست باهم چند تا هستند ؟ با چوب خط نشان بده .





ث) در هر قسمت چند شکل داریم ؟ یکی قبل و یکی بعد را با کشیدن چوب خط نشان بده .




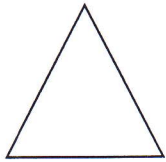
ج) اگر به تعداد انگشتان باز دست از شکل ها رنگ کنیم چند شکل رنگ نشده باقی می ماند؟ چوب خط بکش.




چ) در هر قسمت آن قدر گردی بکش که تعداد شکل های سمت راست و چپ برابر باشد.




خ) به تعداد گوشه های هر شکل از گردی های زیر آن رنگ بزن.



ح) مربع شگفت انگیز را کامل کن.



د) الگو را ادامه بده.



ذ) با توجه به شکل های سمت چپ در سمت راست دو تا بیش تر از آن گردی بکش.

