

به نام خدای ماه و ستاره ها

مجتمع آموزشی، فرهنگی دکتر حسابی - مقطع ابتدایی

نام و نام خانوادگی :  
پایه ی اوّل

۱ - کامل کن .

من داستان های شاهنامه را .....  
مادر به خواهرم گفت : .....  
ژاله از منیژه خواهش کرد که .....

۲ - هر کلمه را در جای مناسب بنویس .

خوش مزه - روشن - قوچ - چادر - هواپیما - کوچه - خوردن - مژده - چاقو - می تواند - پلیس - پروانه

و ← -

---

---

---

و

---

---

---

ا - ا

---

---

---

او و

---

---

---

۳ - برای این تصویر سه جمله بنویس .



۴ - مرتب کن .

زمین ، و ، گرم ، را ، خورشید ، می کند ، روشن

نوروز ، در ، می آید ، بهار

می خواند ، پدرم ، نماز ، در ، نماز خانه

۵- با توجه به عددهای زیر چوب خط بکش، سپس عدد را در جدول قرار بده و آن را با حروف بنویس.



--	--

ده تایی / یکی



--	--

ده تایی / یکی



--	--


ده تایی / یکی




۶- تفریق کن.



..... - ..... = .....



..... - ..... = .....




..... - ..... = .....

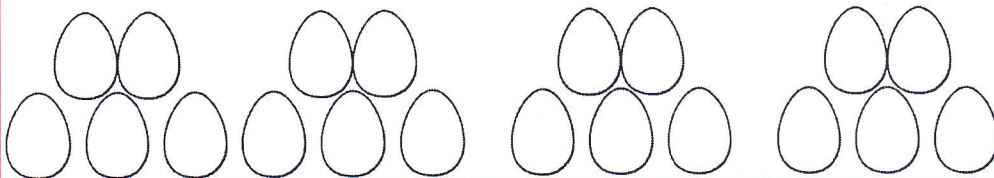


..... - ..... = .....

۷- با استفاده از دو رنگ مختلف جواب جمع ها را پیدا کن

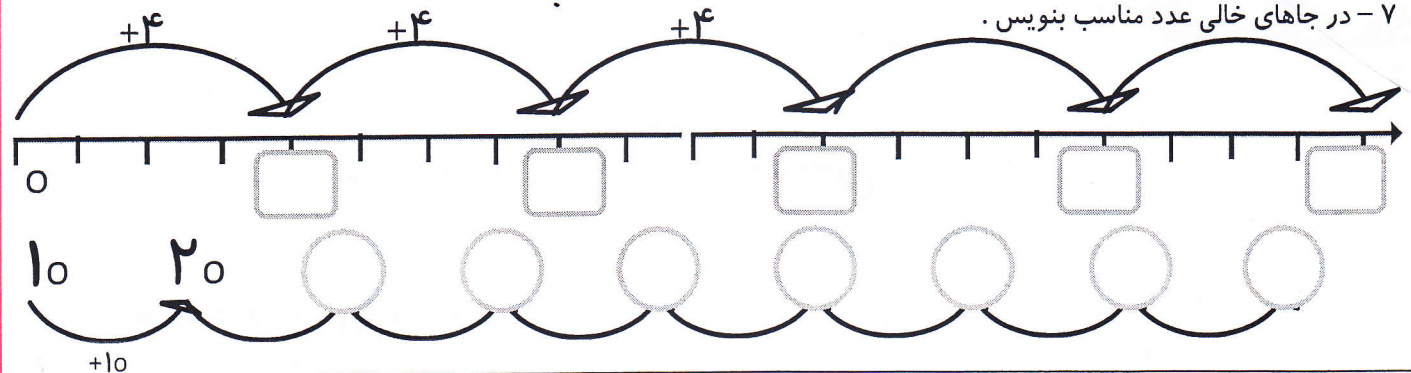


$10 + 9 = \dots\dots$



$13 + 7 = \dots\dots$

۷- در جاهای خالی عدد مناسب بنویس.



۸- با کمک محور و کشیدن شکل مسئله را حل کن.

۷ گل در گلدان بود.

۳ گل دیگر در گلدان قرار دادیم.

