

کد:

تاریخ: ۱۳۹۷ / ۱۱ / ۲۷

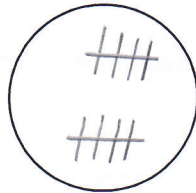
الف) شکل سمت راست را رنگ بزن.




ب) یک خط بسته بکش که عدد ۷ داخل، ۸ خارج و ۶ روی خط بسته باشد.

۷ ۶ ۸


پ) با توجه به عدد شکل را کامل کنید.



ت) جمع کن و دور علامت مناسب < = > خط بسته بکش.



<



=




>

..... + =


..... + =

ث) برای شکل تفریق بنویس.



..... - =

ج) دسته های ده تایی درست کن و جاهای خالی را کامل کن.




ده تایی یکی

..... دسته ی ده تایی و یکی.



چ) عددهای قبل و بعد عدد نوشته شده را بنویس .



خ) علامت $< = >$ بگذار .

7 ○ 8

16 ○ 18

18 ○ 17

19 ○ 15

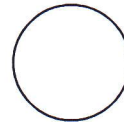

6 ○ 5

13 ○ 13


ح) جدول شگفت انگیز زیر را کامل کن .

1	4		3	2	
2		3		4	6
6	1	2	5		4
	3	4	2	6	
	6	1	4	5	2
4		5	6		3


د) اندازه ی مداد چند گیره ی کاغذ است ؟ با عدد و چوب خط نشان بده .




ذ) دور عدد مناسب خط بسته بکش .



7 8 9




13 14 15



11 12 13

ز) با کمک رنگ کردن چینه ها جواب جمع زیر را به دست بیاور .



$2 + 1 + 3 = \dots$

ز) به اندازه ی عدد داده شده از شکل ها جدا کن .

