

مورخ: ۹۷/۱۰/۱۷

کد:

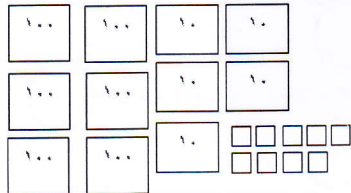
کار در منزل ریاضی

شماره ۵
سال تحصیلی ۹۸-۱۳۹۷

نام و نام خانوادگی:

کلاس دوم دانش ۱ ۲

۱. با توجه به شکل، جدول و جاهای خالی را کامل کن.



صدگان	دهگان	یکان
.....

به رقم:

به حروف:

۲. در جای خالی علامت مناسب $< = >$ بگذار.

یک ساعت نیم ساعت

$۸۱ + ۶$ $۸۱ + ۴$

دو ربع ساعت ۴۵ دقیقه

۸۲ ۸۵

دهگانم ۳ و یکانم ۱ دهگانم ۳ و دهگانم ۴

۳۰۲ ۳۲۰

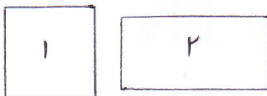
۳. در یک باغ ۴۵ درخت سیب و ۳۹ درخت گیلاس وجود دارد. در این باغ چند درخت وجود دارد؟

۴. با کارت رقم‌های ۲ و ۴ و ۸ عدد‌های دو رقمی بنویس و بعد به سؤال‌ها پاسخ بده.

الف) بیشترین عدد کدام است؟

ب) یکان آن بیشتر از دهگان است.

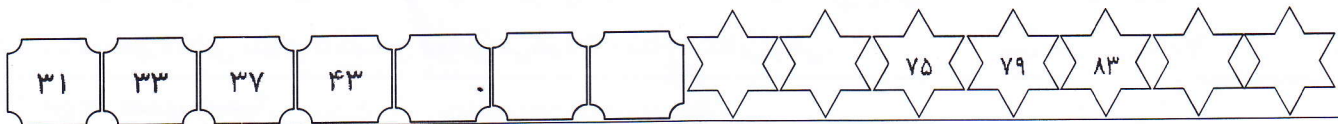
۵. تفاوت و شباهت شکل‌های زیر را بنویس.



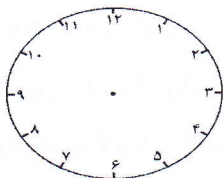
تفاوت:

شباهت:

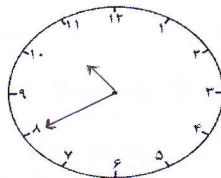
۶. الگوهای عددی زیر را ادامه بده.



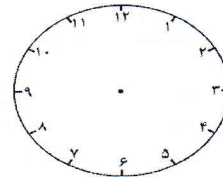
۷. ساعت‌ها را بخوان و بنویس.



دوازده و نیم



..... دقیقه مانده به ساعت.....



ساعت و دقیقه است.

ساعت و دقیقه است.

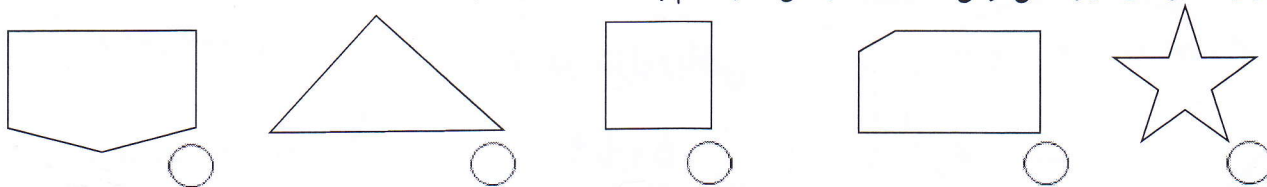
..... :

۳۵ دقیقه مانده به ساعت ۵

نظر و رهنمود معلم:



۸. برای شکل‌های زیر تا می‌توانی خط تقارن بکشی. هر کدام چند خط تقارن دارند؟



۹. حاصل جمع‌ها و تفریق‌ها را به دست آور.

$$\begin{array}{r} 52 \\ + 39 \\ \hline \end{array}$$

$$\begin{array}{r} 64 \\ - 27 \\ \hline \end{array}$$

$$60 + 10 = \bigcirc$$

$$80 - \bigcirc = 30$$

$$20 + 10 + 4 + 5 + 10 + 5 + 10 + 5 = \bigcirc$$

$$18 - 6 = \bigcirc$$

۱۰. جاهای خالی را کامل کن.

* عدد ۸۸ چند رقم دارد؟
* ۳۰ یعنی دسته‌ی ده‌تایی
* ده‌تایی و یکی می‌شود

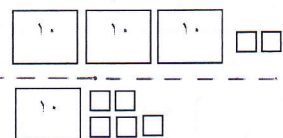
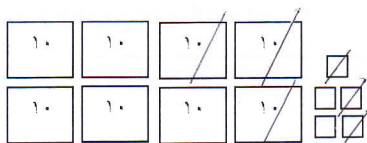
* ۴ یکی و ۵ دسته‌ی ده‌تایی می‌شود
* رقم‌های عدد ۶۷ را نام ببر.
* ۹ دسته‌ی ده‌تایی یعنی

۱۱. حاصل جمع و تفریق را به صورت تقریبی به دست آور.

$$\begin{array}{r} 24 \rightarrow \dots\dots\dots \\ + 48 \rightarrow \dots\dots\dots \\ \hline \end{array}$$

$$\begin{array}{r} 85 \rightarrow \dots\dots\dots \\ - 56 \rightarrow \dots\dots\dots \\ \hline \end{array}$$

۱۲. برای هر کدام از شکل‌های زیر جمع یا تفریق مناسب را بنویس.




۱۳. جاهای خالی را کامل کن.

* ۳ دسته‌ی ده‌تایی به اضافه‌ی دسته‌ی ده‌تایی می‌شود دسته‌ی ده‌تایی یعنی : $\dots\dots\dots + 40 = 70$
* دسته‌ی ده‌تایی منهای ۵ دسته‌ی ده‌تایی می‌شود ۲ دسته‌ی ده‌تایی یعنی : $70 - \dots\dots\dots = \dots\dots\dots$

۱۴. من چه عددی هستم؟

* یکانم ۷ و دهگانم ۱ است \leftarrow به رقم : ، به حروف :
* یکانم ۹ و دهگانم ۶ تا کمتر از دهگانم است \leftarrow به رقم : ، به حروف :
* یکانم کوچکترین عدد یک رقمی و دهگانم ۵ تا بیشتر از یکانم است \leftarrow به رقم : ، به حروف :

۱۵. با کارت رقم‌های ۳ و ۹ و ۷ هر چه می‌توانی عدد سه رقمی بنویس.



۱۶. عددها را با حذف رقم یکان و دهگان تقریب بزن.

$$461 \rightarrow \dots\dots\dots$$

$$502 \rightarrow \dots\dots\dots$$

$$139 \rightarrow \dots\dots\dots$$

$$895 \rightarrow \dots\dots\dots$$