


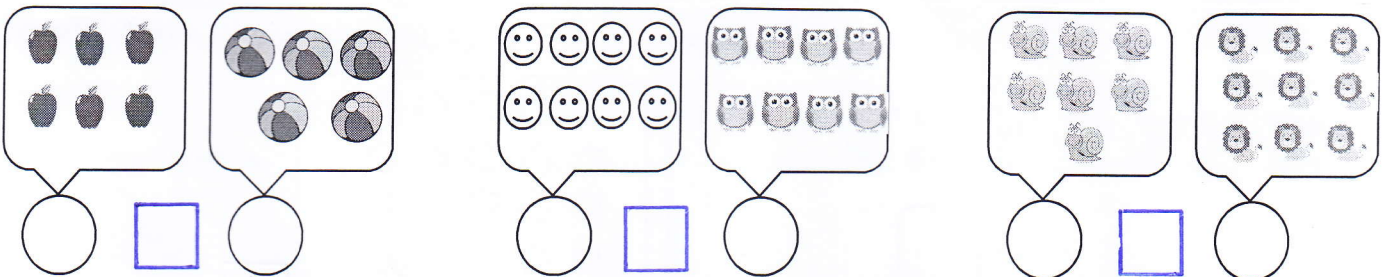
(۲) اندازه ی شکل چند سنجاق است ؟ با عدد و چوب خط نشان بدهید .



(۱) شکل سمت راست را رنگ کنید.



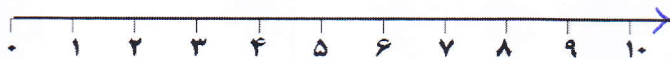
(۳) عدد هر دسته را بنویسید و داخل چهارگوش علامت < = > بگذارید .



(۴) به کمک محور جمع و تفریق را انجام دهید .

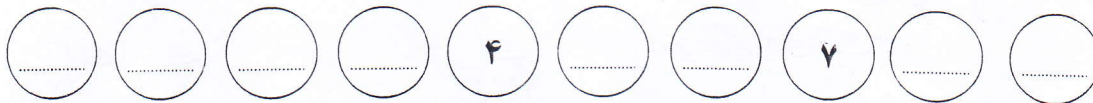


$$10 - 5 =$$


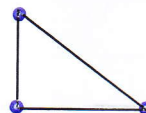



$$3 + 4 + 2 =$$



(۵) در جاهای خالی عدد مناسب بنویسید .




(۶) با چوب خط نشان بدهید که هر شکل چند لبه و چند گوشه دارد ؟



(۸) به تعداد انگشتان از شکل ها رنگ کن . تعداد رنگ نشده را با چوب خط نشان بدهید .



(۷) یکی قبل و یکی بعد را با چوب خط نشان بدهید .





۹) با توجه به جمع نوشته شده مربع ها را با رنگ های مختلف رنگ کن و حاصل را بنویسید .



$$3 + 5 + 4 = \square$$

۱۰) هر دسته چند شکل دارد ؟ با چوب خط بشمار و عدد هر دسته را بنویس .





۱۲) با توجه به تفریق زیر شکل ها ، از شکل ها خط بزن و جواب را بنویس .



$$8 - 5 = \square$$

۱۱) با توجه به عدد کنار شکل ها آن ها را با کشیدن خط دسته بندی کن و جاهای خالی را با نوشتن عدد مناسب کامل کن .



دسته ی سه تایی


یکی

۳

۱۴) دور عدد مناسب خط بسته بکش .



۸ ۹ ۱۰



۱۳ ۱۴ ۱۲

۱۳) جدول شگفت انگیز را کامل کنید .

۸		۵	۶
	۶	۸	
۶	۵		
۷			۵

۱۵) الگو را ادامه بدهید .



۲) حلزونی که بین چهارمی و ششم است را رنگ بزن .



۱۶) شکلی که دو نیمه مساوی دارد را رنگ بزن .

