

(۱) عدد سه میلیون و نه صد و هفت هزار و چهل و دو را با رقم بنویس.

میلیون ها			هزارها			یکی ها		
صدگان	دهگان	یکان	صدگان	دهگان	یکان	صدگان	دهگان	یکان

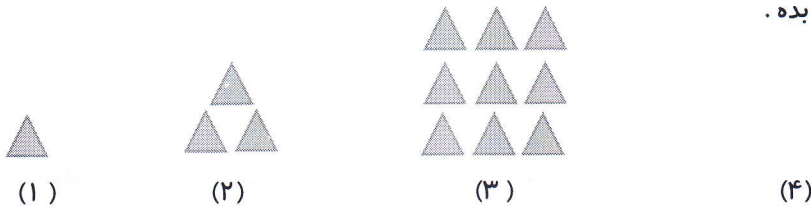
با رقم: .....

(۲) الگوها را ادامه بده.

۱۵۰۰    ۳۰۰۰    ۴۵۰۰               

           ۱۰۰۰۰    ۱۰۵۰۰    ۱۱۰۰۰               

(۴) الگوی زیر را با کشیدن شکل های مناسب ادامه بده.

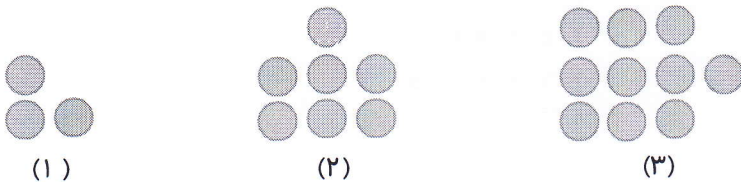


(۵) الگوی هندسی بالا را به الگوی عددی تبدیل کن و بنویس شکل ششم از چند مثلث درست شده است؟

(۶) عدد ۵۰۴۷۰۱۰۹ را به صورت گسترده بنویس.

۵۰۴۷۰۱۰۹ →

(۷) در الگوی زیر تعداد دایره های شکل دهم را بنویس.



(۸) با توجه به کاری که هر ماشین انجام می دهد. عددهای خروجی را پیدا کن.


۵ →  × ۹ →

۶۳ →  ÷ ۹ →

۸۱ →  ÷  → ۹

۹ →  × ۸ →

(۹) ارزش پول های زیر را به ریال و تومان بنویس.



نیاز به تلاش بیشتر

قابل قبول

خوب

ارزشیابی: خیلی خوب


۱۰) محمد از فروشگاه‌های یک کتاب داستان کودکان خرید و یک اسکناس ۱۰۰۰۰ تومانی به فروشنده داد و فروشنده ۴۶۰۰ تومان به او داد. قیمت کتاب چند تومان شده است؟

۱۱) یک طناب ۱۲ متری را می‌خواهیم در اندازه‌های یک متری قیچی کنیم. طناب را چند بار باید قیچی کنیم؟

۱۲) عددهای داده شده به کدام عدد نزدیکتر است. آن را رنگ کن.

۹۷۴۲۰۰	←	۹۷۲۰۲۶	→	۹۷۳۰۰۰
۶۵۴۰۰۰	←	۶۵۴۹۹	→	۶۵۵۰۰

۱۳)  $\frac{2}{4}$  هر شکل را رنگ کن.



۱۴) کسرها را با نمادهای ( $<$ ,  $=$ ,  $>$ ) باهم مقایسه کن.

$$\frac{2}{9} \bigcirc \frac{2}{12}$$

$$\frac{4}{7} \bigcirc \frac{1}{7}$$

$$\frac{0}{5} \bigcirc 0$$

۱۵) عدد مخلوط  $2\frac{3}{5}$  را روی محور اعداد نشان بده.



۱۶) ضرب را به صورت خلاصه و تفریق را به صورت گسترده انجام بده.

$$\begin{array}{r} 970 \\ \times 46 \\ \hline \end{array}$$

$$\begin{array}{r} 450037 \\ - 270005 \\ \hline \end{array}$$

۱۷) کوچکترین و بزرگترین عدد پنج رقمی که رقم هایش تکراری نباشد، بنویس.

بزرگترین:

کوچکترین:

۱۸) جدول زیر را کامل کن.

طول ضلع مربع	۴	۹	
محیط مربع		۲۰	۴۰