

۹) مسئله را با رسم شکل حل کن . (نوشتن عملیات جبری و جلونویسی الزامی است .)

علی ۹ توپ داشت .

پدرش ۴ توپ دیگر به او داد .

علی روی هم چند توپ دارد ؟

۱۰) به رقم و حروف بنویس .

۱۹ (.....)

هشتاد و یک (.....)

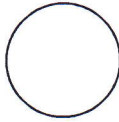
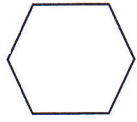

پانزده (.....)

۳۶ (.....)

بیست و پنج (.....)

چهل و یک (.....)

۱۲) هر شکل چند گوشه دارد ؟ (عدد آن را بنویس)



$$20 + 30 = \bigcirc$$

$$9 + 6 = \bigcirc$$

$$10 + 5 + 20 + 5 = \bigcirc$$




$$10 - 7 = \bigcirc$$

$$9 - 4 = \bigcirc$$

$$60 - 20 = \bigcirc$$

۱۱) جمع و تفریق کن .

۱۳) دور عدد مناسب خط بسته بکش .



۱۹

۱۵

۱۶

۱۷

۱۸

۱۹

۱۲

۱۳

۱۴

۱۴) مسئله را به کمک محور حل کن .

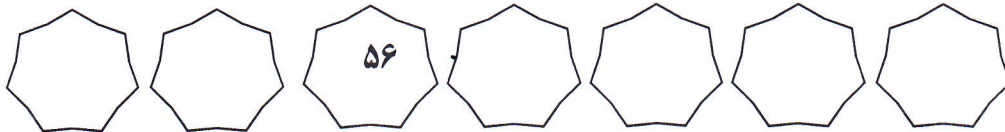
امین ۱۳ گل داشت .

۶ تای آن ها را به مادرش داد .


حالا امین چند گل دارد ؟



۱۵) عددهای قبل و بعد را بنویس .



۱۶) با رنگ زدن چینه ها جواب جمع را به دست بیاور .



$$2 + 5 + 4 = \dots$$


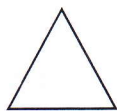
۱۷) الگو را ادامه بده .



کد:

تاریخ: ۱۳۹۸ / ۲ / ۲۲

۲) نام هر شکل را بنویس .

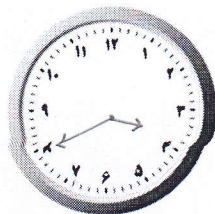


۱) شکل سمت راست را رنگ بزن و دور شکل سمت چپ خط بسته

بکش .



۴) در جاهای خالی عددهای مناسب بنویس .



ساعت بین و است .

۳) علامت < = > بگذار .

۷۸ ○ ۸۷

۱۰ ○ ۲۰

۱۵ ○ ۱۹

۱۶ ○ ۱۴

۳۵ ○ ۲۵

۴۲ ○ ۴۲

۶) جاهای خالی را با عددهای مناسب کامل کن .

۲۰ - ۲۵ - - - ۴۰ -

+۵


۴۰ - ۵۰ - - - ۹۰

+۱۰

۵) مربع شگفت انگیز زیر را کامل کن .

		۸	۷
۷		۵	
۵	۶		
۸	۷		۵

۷) دسته ی ده تایی درست کن و جدول و جدول و جای خالی را کامل کن .



ده تایی یکی

به عدد :

به حروف :

دسته ی ده تایی و یکی

۸) اندازه ی مداد چند گیره ی کاغذ است ؟ با چوب خط و عدد نشان بده.

