

نام و نام خانوادگی:

مجتمع آموزشی، فرهنگی دکتر حسابی - مقطع ابتدایی

کد:




ارزشیابی ریاضیات شماره ۱

تاریخ: ۱۳۹۷/۹/۱۰

سال تحصیلی - ۹۸ - ۱۳۹۷

دوم دانش ۱ ۲

۱) برای شمارش گل‌ها ابتدا آن‌ها را به دسته‌های ده تایی تقسیم کنید و با کامل کردن جدول تعداد آن‌ها را بنویسید. سپس جاهای خالی را

دهگان	یکان
	
	
	

کامل کنید.


- به حروف:

- به رقم:

- این عدد چند رقم دارد؟

- با این رقم‌ها یک عدد دیگر بنویس.

۲) عددهایی را که دهگان آن‌ها ۸ است. رنگ بزن.



۳) الگوها را ادامه دهید.

۷۵ و ۶۵ و و و و و ۹ و ۶ و ۳


۴) حاصل عبارت روبه‌رو را با کمک محور اعداد بنویسید.

$$۹ + ۵ + ۶ = \square$$



۵) حاصل جمع را با استفاده از مربع‌ها و اضافه کردن مربع‌ها بدست آورید.

$$۵ + ۸ + ۴ = \square$$




۶) روی درختی ۲۳ پرنده نشسته بودند. ۱۵ تای آن‌ها پریدند. حالا چند پرنده روی درخت نشسته است؟




هنرمود معلم:

۷) ساعت از گذشته و به ساعت مانده است.



۸) ساعت چند است ؟



ساعت و دقیقه است .

۸) حاصل جمع و تفریق را بنویسید .

$40 + 40 = \square$

$$\begin{array}{r} 61 \\ - 37 \\ \hline \end{array}$$

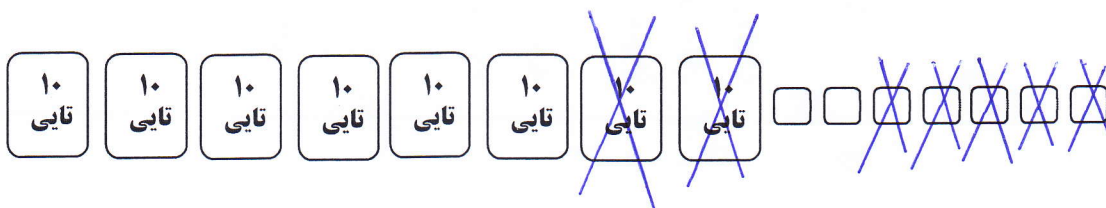

$$\begin{array}{r} 29 \\ + 46 \\ \hline \end{array}$$

$70 - 20 = \square$

$10 - 7 = \square$


$20 + 5 + 30 + 5 + 2 + 5 = \square$

۹) برای شکل زیر یک تفریق بنویسید و آن را حل کنید .




۱۰) حسین روز اول ۳۸ صفحه از کتاب داستانش را خواند . روز دوم ۲۵ صفحه از آن را خواند تا کتاب تمام شد . کتاب داستان حسین چند صفحه داشته است ؟

۱۱) حاصل جمع های زیر را به دست آورید. (با رسم چوب خط)



$4 + 3 + 6 =$



$5 + 5 + 5 =$

۱۲) در جاهای خالی علامت $<$ $=$ $>$ بگذارید .

$5 + 3$ \bigcirc $4 + 4$

46 \bigcirc 52

28 \bigcirc 82

14 \bigcirc 9