

نام:

نام خانوادگی:

کد:

کلاس سوم ۱ □ ۲ □

تاریخ: / / ۹۷

مجتمع آموزشی، فرهنگی دکتر حسابی - مقطع ابتدایی

تکلیف ویژه

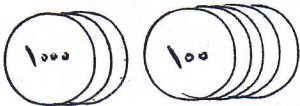
سال تحصیلی ۹۸ - ۱۳۹۷

۱) الگوهای زیر را ادامه بده.

۱۲ → ۱۵ → ۱۶ → ----- → -----

----- ← ۲۸ ← ۳۵ ← ۴۲

۲) با توجه به شطرنج به سوالات پاسخ بده.



- عدد را به رقم بنویس.

- عدد را به حرف بنویس.



- کمترین رقم در چه مرتبه ای قرار دارد؟



- کدام رقم کمترین ارزش مکانی را دارد؟

۳) رضا و خانواده اش ساعت ۱۱ صبح به سمت اصفهان حرکت کردند. بعد از ۳ ساعت به اصفهان رسیدند. آن‌ها چه ساعتی به اصفهان رسیدند؟

۴) با استفاده از رقم‌های (۵، ۳، ۰، ۴) بزرگ‌ترین و کوچک‌ترین عدد چهار رقمی را بنویس.

بزرگ‌ترین: -----


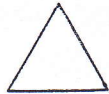

کوچک‌ترین: -----

۵) باز شده یا گسترده یا فشرده را بنویس:

۹۰۴۲ = ----- ۴۲۵۰ = -----


۳۵۰۰ = ----- ۶۸۰۲ = -----

۶) خط تقارن هر شکل را رسم کن.



۷) عددهای داده شده را به صورت تقریبی روی محور نشان بده.

۸۸۸۹ - ۵۵۰۰ - ۲۲۲۰ - ۹۰۵



۸) جاهای خالی را کامل کن.

عدد ۳۵۶۱ یعنی ..... یکی ..... ده تایی ..... صد تایی ..... هزار تایی

عدد ..... یعنی ۳ یکی ۵ صد تایی ۵ ده تایی ۸ هزار تایی

عدد ..... یعنی ۴ هزار تایی و ۶ ده تایی

عدد ۵۵۷۱ یعنی ..... هزار تایی ..... صد تایی ..... ده تایی ..... یکی