

۱) با توجه به شکل، جدول و جاهای خالی را کامل کن.

۱۰۰	۱۰	۱۰	۱۰
۱۰۰	۱۰	۱۰	□ □ □ □ □ □ □ □



صدگان	دهگان	یکان
-------	-------	------

به رقم: .....

به حروف: .....

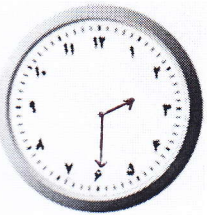
۲) با کارت های ۴، ۰، ۷ برای یکان و ۳ و ۶ برای دهگان، تا می توانی عدد دو رقمی بنویس.

۳) خط های تقارن شکل های زیر را با خط کش، رسم کن و بنویس هر کدام چند خط تقارن دارد؟




ب) با استفاده از کلمه ی « نیم » جاهای خالی را کامل کن.

۴) الف) ساعت را بخوان و بنویس.



..... ساعت مانده به ساعت .....

..... :



هشت و ربع

..... :

۵) در جای خالی علامت مناسب < = > را قرار بده.

۴۵ دقیقه ○ نیم ساعت

یکانم ۳ و دهگانم ۷ ○ دهگانم ۳ و یکانم ۷

۵۳ ○ ۵۹

۵۲ + ۵ ○ ۶۲ - ۵

۱۸۰ ○ ۱۰۸

۶) الگوهای عددی زیر را ادامه بده.

۱۴	۱۶	۲۰	۲۶	□	□	□
----	----	----	----	---	---	---

□	□	۵۰	۵۳	۵۶	□	□
---	---	----	----	----	---	---



۷) دانش آموزان کلاس اول و دوم یک مدرسه ۸۵ نفر هستند. اگر ۴۲ نفر از آن ها کلاس اول باشند، چند دانش آموز کلاس دوم هستند؟

۸) حاصل جمع ها و تفریق ها را به دست آور.

$$\begin{array}{r} ۲ \quad ۴ \\ + \quad ۵ \quad ۸ \\ \hline \end{array}$$

$$\begin{array}{r} ۹ \quad ۳ \\ - \quad ۶ \quad ۹ \\ \hline \end{array}$$

$$۲۰ + ۵ + ۴ + ۵ + ۱۰ + ۵ + ۲ = \bigcirc$$

$$۴۰ + ۱۰ = \bigcirc$$

$$۱۷ - ۵ = \bigcirc$$

۹) جاهای خالی را کامل کن.

- ..... یکی و ..... دسته ی ده تایی می شود ۹۸

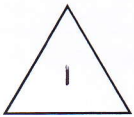
- ..... ۷ یکی می شود ..... ۳ -

- عدد ۱۸ چند رقم دارد؟ .....

- ..... ۶ و دهگانم ۴ تا کم تر از یکانم است: .....

- ۵ صدتایی و ۳ ده تایی و ۷ یکی می شود .....

۱۰) شباهت و تفاوت شکل های زیر را بنویس.



شباهت: .....



تفاوت: .....

۱۱) حاصل جمع و تفریق زیر را به صورت تقریبی به دست آور.

$$\begin{array}{r} ۵ \quad ۸ \\ + \quad ۴ \quad ۲ \\ \hline \end{array} \rightarrow \begin{array}{r} \text{.....} \\ \text{.....} \\ \hline \end{array}$$

$$\begin{array}{r} ۷ \quad ۵ \\ - \quad ۱ \quad ۹ \\ \hline \end{array} \rightarrow \begin{array}{r} \text{.....} \\ \text{.....} \\ \hline \end{array}$$

۱۲) جمع یا تفریق مربوط به شکل های زیر را بنویس.

