

نام و نام خانوادگی:

مجتمع آموزشی، فرهنگی دکتر حسابی - مقطع ابتدایی

آزمون ریاضی

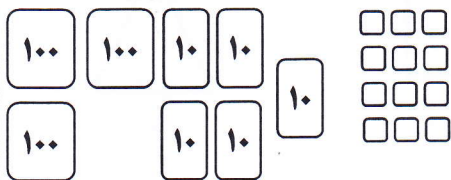
کد:

تاریخ: ۱۳۹۷/۱۲/۶

سال تحصیلی - ۹۸ - ۱۳۹۷

دوم دانش ۱ ۲

(۱) با توجه به شکل به سؤال ها پاسخ بده .



ص	د	ی

بارقم:

با حروف:

(۲) در جاهای خالی عدد مناسب قرار بده .

- عدد ۵۸ چند رقم دارد؟

- ۷۳۱ برابر است با صدتایی، یکی و ده تایی

- رقم های آن را بنویس

- ۸۱۴ سانتی متر برابر است با سانتی متر و میلی متر

- با همین رقم ها یک عدد دو رقمی دیگر بنویس

(۳) الگوها را کامل کن .



(۴) جمع ها و تفریق ها را انجام بده .

$$37 + \square = 83$$

$$10 + 20 + 5 + 10 + 5 + 3 =$$


$$\begin{array}{r} 7 \ 5 \\ + 1 \ 9 \\ \hline \end{array}$$

$$\begin{array}{r} 8 \ 6 \\ - 2 \ 9 \\ \hline \end{array}$$

$$75 - \square = 32$$

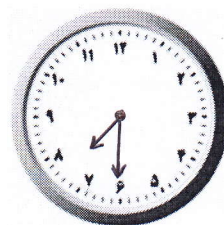
$$100 - \square = 40$$

(۵) ساعت ها را بخوان و کامل کن .



۱۵ دقیقه مانده به ساعت ۳

ساعت و دقیقه است .



ساعت و دقیقه است که آن را هم می گویند .

۱۵ دقیقه ی بعد ساعت چند می شود؟

(۶) من چه عددی هستم؟ یکانم بیش ترین عدد یک رقمی، دهگانم ۳ تا کمتر از یکانم و صدگانم ۵ است .

(د) ۶۵۹

(ج) ۵۶۹

(ب) ۹۶۵

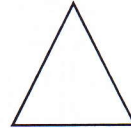

(الف) ۹۵۶



رهنمود معلم:

۷) علی ۸۹ توپ قرمز و آبی دارد. اگر ۳۵ تا از توپ ها آبی باشد، چند توپ قرمز است؟

۸) نام هر شکل را بنویس و برای آن ها تا می توانی خط تقارن بکش.



۹) عددها را به صورت تقریبی بنویس.

۸۴ →

۵۴۳ →

۷۶۵ →

۱۹۲ →

۴۰۸ →

۲۹۷ →

۱۰) باز شده ی عددها را بنویس.

۴۵۶ =

۸۰۹ =

۲۵۰ =

۱۱) پول ها را بشمار و مقدار آن ها را بنویس.



ریال

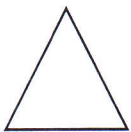
۱۲) عددها را با حذف یکان و دهگان به صورت تقریبی بنویس.

۹۸۱ →

۵۰۵ →

۶۳۰ →

۱۳) با توجه به دو شکل مقابل یک شباهت و یک تفاوت بنویس.




شباهت:



تفاوت:

۱۴) اندازه ی هر خط را کنار آن بنویس.



..... سانتی متر و میلی متر

..... میلی متر یا میلی متر و سانتی متر