

نام و نام خانوادگی:

چهارم فرهنگ ۱ ۲

مجتمع آموزشی ، فرهنگی دکتر حسابی - مقطع ابتدایی

آزمون ریاضی شماره ۳

سال تحصیلی - ۹۸ - ۱۳۹۷

کد:

تاریخ: ۱۳۹۸ / ۲ / ۳

۲۵۳۰۱۴۶۹

۱) با توجه به عدد مقابل به سؤالات زیر پاسخ دهید .

الف) عدد را به حروف بنویسید .

ب) ارزش مکانی رقم (۲) را بنویسید .

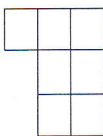
ج) ارزش مکانی کدام رقم صدگان هزار است ؟

۲) با توجه به الگوی داده شده ، شکل چهارم را رسم کنید .

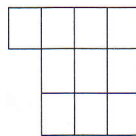
- رابطه ی الگویی آن را بنویسید .



(۱)



(۲)



(۳)

(۴)

۳) مقایسه کنید و علامت (<=>) بگذارید .

۳۴۵۸۰۱ ۳۴۵۷۹۹

۱ ساعت و ۱۸ دقیقه ۸۷ دقیقه

۵ $\frac{۲}{۴}$ ۶

$\frac{۳}{۴}$ $\frac{۱}{۲}$

۴) حاصل عبارت های زیر را به دست آورید .

$$\frac{۸}{۲۰} + \frac{۳}{۴} =$$

$$۷ \times \frac{۳}{۸} =$$

$$(۲ \times \frac{۲}{۵}) - (۳ \times \frac{۱}{۱۵}) =$$

$$۸۳ \times ۲۶ =$$

۵) پدر رضا ۴۶ کیلو برنج که هر کیلو ۱۱۰۰۰ تومان و ۱۷ کیلو میوه که هر کیلو ۳۵۰۰ تومان بود خرید . پدر رضا چند تومان خریده کرده است؟

۶) تقسیم های زیر را انجام دهید .

$$\begin{array}{r} ۷۹۳ \\ ۳۲ \end{array}$$

$$\begin{array}{r} ۱۷۴۷ \\ ۶۳ \end{array}$$


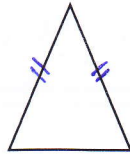
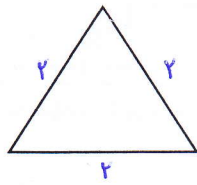


همود معلم :

۷) ۳۵ دقیقه قبل و ۵۰ دقیقه بعد از ساعت ۸:۲۰ را پیدا کنید.

..... = قبل = بعد

۸) نام شکل های زیر را بنویسید.



.....

.....

.....

۹) جاهای خالی را کامل کنید.

- زاویه تند از زاویه ی باز است.

- ۳ دقیقه و ۵۲ ثانیه برابر است با دقیقه.

- عدد ۴۸ بر ۳ بخش پذیر

- عدد مخلوط $۷\frac{۱}{۳}$ بین اعداد کامل و قرار دارد.

۱۰) عددهای زیر را از کوچک به بزرگ مرتب کنید.

$۰/۲$ و $۴/۷$ و ۳ و $۱/۲$ و $۰/۴$

..... < < <

۱۱) در یک ظرف $۲/۳$ لیتر روغن وجود دارد. چقدر روغن در این ظرف بریزیم تا ۵ لیتر روغن داشته باشد.


۱۲) عددهای زیر را به صورت اعشاری بنویسید.

$$\frac{۲}{۵} =$$

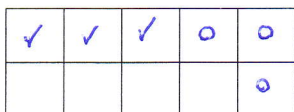
$$۳\frac{۱}{۲} =$$

$$۸ \text{ تا } ۰/۱ =$$

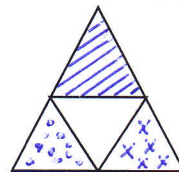
۱۳) با توجه به شکل حاصل ضرب را به دست آورید.



۱۴) برای هر شکل ضرب کسری بنویسید.



.....



.....

۱۵) با توجه به فلش های رسم شده برای محور یک تفریق بنویسید.

