

نام و نام خانوادگی:

مجتمع آموزشی، فرهنگی دکتر حسابی - مقطع ابتدایی

آزمون ریاضی

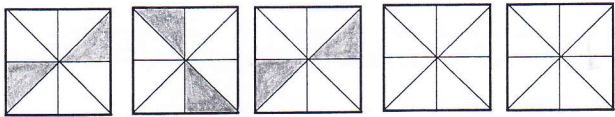
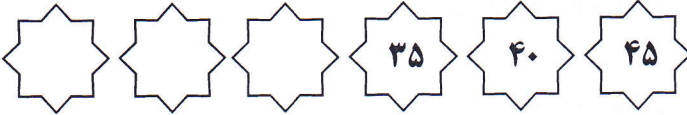
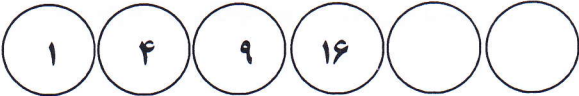
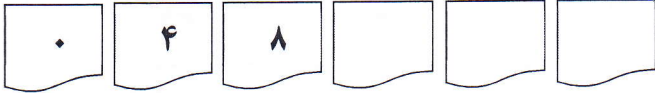
سال تحصیلی - ۹۸ - ۱۳۹۷

کد:

تاریخ: ۱۳۹۷/۸/۱۵

سوم پژوهش ۱ □ ۲ □

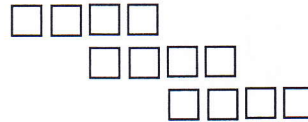

۱) الگوهای عددی و شکلی زیر را ادامه بده.



۲) رضا روز اول ۱۰ دقیقه مطالعه می کند. اگر هر روز ۵ دقیقه بیش تر مطالعه کند، او پس از چند روز می تواند ۳۵ دقیقه مطالعه کند؟ (برای پاسخ به سؤال جدول را کامل کن.)

روز	۱					
دقیقه	۱۰					

۳) شکل های زیر را ابتدا دسته بندی کن بعد با کمک شمارش چندتاچندتا و نوشتن عبارت جمع تعداد مربع های هر شکل را بنویس.



.....
.....

.....
.....

۴) اگر چهارشنبه ۴ آبان باشد تا پایان آبان روزهای چهارشنبه چه روزهایی هستند؟

در این ماه چند تا چهارشنبه داریم؟

۵) یک مغازه دار کتابی را ۴۰۰ تومان می خرد و ۴۵۰ تومان می فروشد (با رسم جدول به سؤالات زیر پاسخ بده)

- اگر ۳ کتاب بفروشد چند تومان سود می کند؟

- با فروش ۵ کتاب چند تومان سود می کند؟

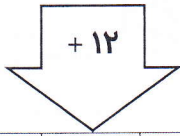
- چند کتاب بفروشد تا ۴۰۰ تومان سود کند؟



(هنرمود معلم):

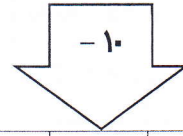
۶) جاهای خالی را کامل کن .

	۵	۴		۱۰
--	---	---	--	----



۲۱			۲۴	
----	--	--	----	--

۱۵		۲۵		۶۷
----	--	----	--	----



	۳۸		۴۹	
--	----	--	----	--

۷) حاصل جمع های زیر را به صورت ذهنی به دست آور .

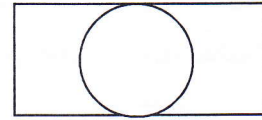
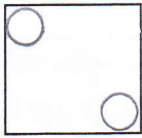
$$۳+۵+۸+۷+۲=$$

$$۹+۱+۴+۵+۲=$$

$$۶+۳+۵+۲+۴=$$

$$۷+۲+۴+۴+۶=$$

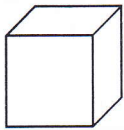
۸) هر یک از شکل های زیر چند خط تقارن دارند ؟ آن ها را رسم کن .



.....

.....

.....

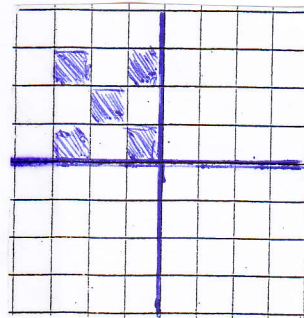
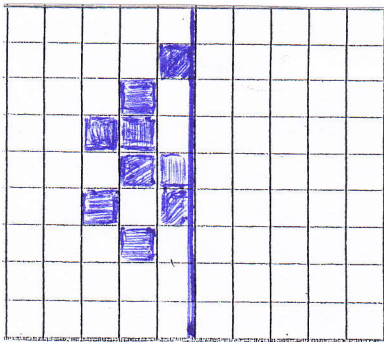


۹) شکل مقابل چه نام دارد ؟

این شکل چند طرف دارد ؟

گسترده ی شکل مقابل را رسم کن .


۱۰) با کمک خط تقارن تعداد مربع های هر شکل را بنویس .



۱۱) روی ساعت های زیر زمان خواسته شده را نشان بده .



۱۶:۳۰



۲۲:۱۵