


۱) تا می توانی دسته های ده تایی درست کن و جدول و جاهای خالی را کامل کن.



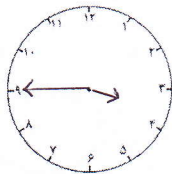
دهگان	یکان

به عدد: .....


به حروف: .....

۲) با کارت رقم های ۳ و ۱ برای یکان و ۵ و ۷ برای دهگان تا می توانی عدد دو رقمی بنویس.

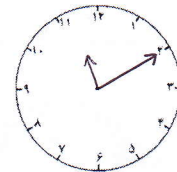
۳) ساعت ها را بخوان و بنویس.



ساعت ..... و ..... دقیقه است.



ساعت ۵ و ۳۵ دقیقه است.




ساعت ..... و ..... دقیقه است.

۴) رضا در مرحله ی اول از مسابقه ۴۷ امتیاز و در مرحله ی دوم ۳۵ امتیاز به دست آورده است.

الف) رضا در این مسابقه چند امتیاز به دست آورده است؟

ب) اگر رضا در مرحله ی سوم ۲۲ امتیاز از دست بدهد، حالا رضا چند امتیاز دارد؟

۵) الگوهای عددی زیر را ادامه بده.



۶) در جای خالی علامت مناسب < = > را بگذار.

۴۸  ۸۴

$۳۲ + ۵$    $۴۲ - ۵$

۶۸  ۵۹

یک ساعت  ۶۰ دقیقه

پنجاه و سه  کمترین عدد دو رقمی



رهنمود معلّم: .....

(۷) حاصل جمع و تفریق‌ها را به دست آور.

$$\begin{array}{r} 53 \\ + 28 \\ \hline \end{array}$$

$$\begin{array}{r} 86 \\ - 34 \\ \hline \end{array}$$

$40 + 10 = \square$

$90 - 30 = \square$

$20 + 5 + 10 + 5 + 10 + 3 = \square$

(۸) جاهای خالی را کامل کن.

\* ۴ دسته‌ی ده‌تایی یعنی .....

\* ۸۹ یعنی ..... دسته‌ی ده‌تایی و ..... یکی.

\* هر ساعت ..... دقیقه است.

\* ..... دسته‌ی ده‌تایی به اضافی ۵ دسته‌ی ده‌تایی می‌شود ..... دسته‌ی ده‌تایی یعنی:  $10 + \dots = 60$

(۹) تمام جمع‌هایی را که حاصل آن‌ها ۵ می‌شود را بنویس.

$\dots + \dots = 5$

$\dots + \dots = 5$


$\dots + \dots = 5$

$\dots + \dots = 5$

$\dots + \dots = 5$

$\dots + \dots = 5$

(۱۰) عددهای داخل خورشید به عدد کدام ابر نزدیک‌تر است؟



(۱۱) حاصل جمع زیر را با رنگ کردن مربع‌ها به دست آور.

$4 + 7 + 3 = \square$




(۱۲) حاصل جمع و تفریق را به صورت تقریبی به دست آور.

$$\begin{array}{r} 84 \rightarrow \dots \\ - 57 \rightarrow - \dots \\ \hline \dots \end{array}$$

$$\begin{array}{r} 35 \rightarrow \dots \\ + 19 \rightarrow + \dots \\ \hline \dots \end{array}$$

(۱۳) حاصل عبارت زیر را از روی محور به دست آور.

$9 + 8 - 4 = \square$



(۱۴) عددهای خواسته شده را بنویس و جاهای خالی را کامل کن.

\* یکان ۴ و دهگان ۶ ← به عدد : ..... ، به حروف : .....

\* دهگان ..... و یکان ..... ← به عدد : ۷۰ ، به حروف : .....

\* یکان ۳ و دهگان ۳ تا بیشتر از یکان ← به عدد : ..... ، به حروف : .....