

نام و نام خانوادگی:

مجتمع آموزشی، فرهنگی دکتر حسابی - مقطع ابتدایی

ارزشیابی ریاضی شماره ۱

سال تحصیلی - ۹۸ - ۱۳۹۷

کد:

تاریخ: ۱۳۹۷/۹/۱۱

سوم پژوهش ۱ □ ۲ □


۱) یک کتابخانه ۶ طبقه دارد و هر طبقه هم ۳ قفسه دارد.

الف) دو طبقه، چند قفسه دارد؟

ب) طبقه ی اول، چند قفسه دارد؟

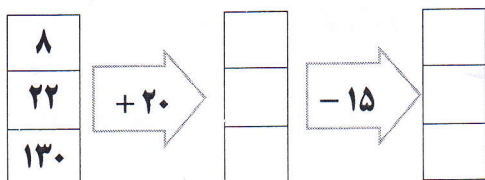
ج) ۶ طبقه، چند قفسه دارد؟

۲) با توجه به دسته بندی، برای این شکل یک جمع بنویس.

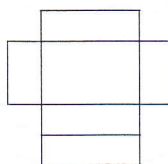
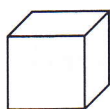


۳) امروز یکشنبه ۱۱ آذر ماه است. تا پایان این ماه، یکشنبه ها چه روزهایی از ماه هستند؟

۴) با توجه به کاری که هر ماشین انجام می دهد، در جاهای خالی عدد مناسب بنویس.



۵) نام شکل های زیر را بنویس.



۶) خط تقارن شکل های زیر را رسم کن.



۷) هواپیمای ماهان ساعت ۷ صبح از تهران حرکت کرد و پس از ۴ ساعت به مدینه رسید. این هواپیما چه ساعتی به مدینه رسیده است؟

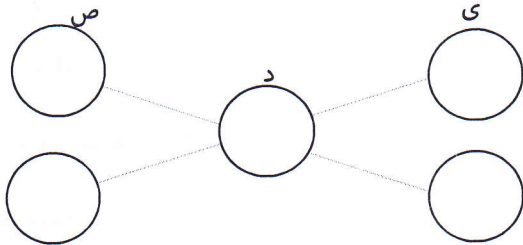


(هنرمود معلّم):

۸) جدول زیر را کامل کنید :

زمان		۱۶		یازده و ربع	16 : 45
بعدازظهر	03 : 15		ده و نیم		

۹) تمام عددهای سه رقمی را که یکان آن ها ۶ و ۹ ، دهگان آن ها ۷ و صدگانش ۴ و ۳ باشد ، بنویس .



۱۰) باز شده ی هر عدد را بنویس .

$$۵۴۳۲ =$$

$$۶۱۰۰ =$$

۱۱) عدد ۹۰۵۷ یعنی ده تایی و هزارتایی و یکی و صدتایی .

- دو کیلومتر و ۴۵۰ متر یعنی متر .

- ۳۲۴۰ گرم یعنی گرم و کیلوگرم

- یک متر و ۲۷ سانتی متر یعنی سانتی متر .

۱۲) از عدد ۲۰۰۰ تا ۲۴۰۰ را ۵۰ تا ۵۰ بنویس .

۲۴۰۰ - - - - - ۲۰۰۰ - ۲۰۵۰ -

۱۳) خداوند ۱۰۰۱ اسم دارد . این عدد را با حروف بنویس .

۱۴) الگوی عددی زیر را ادامه بده .

۱ - ۹ - ۱۷ - ۲۵ - - -

۱۵) با استفاده از علامت < > = هر مورد را مقایسه کن .

$$۴۰۰۶ \bigcirc ۶۰۰۴$$

$$۲۹۹ \bigcirc ۳ \text{ تا صدتایی}$$

$$۱۰ \text{ میلی متر} \bigcirc ۱ \text{ سانتی متر}$$

۱۶) ۴۸۹۰ ریال چند تومان است ؟ تومان .